

**ΠΑΝΕΛΛΑΔΙΚΕΣ ΕΞΕΤΑΣΕΙΣ
Γ΄ ΤΑΞΗΣ ΗΜΕΡΗΣΙΟΥ ΓΕΝΙΚΟΥ ΛΥΚΕΙΟΥ
ΚΑΙ ΕΠΑΛ (ΟΜΑΔΑ Β΄)
ΤΕΤΑΡΤΗ 20 ΜΑΪΟΥ 2015
ΕΞΕΤΑΖΟΜΕΝΟ ΜΑΘΗΜΑ:
ΜΑΘΗΜΑΤΙΚΑ ΚΑΙ ΣΤΟΙΧΕΙΑ ΣΤΑΤΙΣΤΙΚΗΣ ΓΕΝΙΚΗΣ ΠΑΙΔΕΙΑΣ
ΣΥΝΟΛΟ ΣΕΛΙΔΩΝ: 5(ΠΕΝΤΕ)**

ΘΕΜΑ Α

- A1.** Αν οι συναρτήσεις f, g είναι παραγωγίσιμες στο \mathbb{R} , να αποδείξετε ότι

$$(f(x) + g(x))' = f'(x) + g'(x), x \in \mathbb{R}$$

Μονάδες 7

- A2.** Πότε λέμε ότι μια συνάρτηση f είναι παραγωγίσιμη στο σημείο x_0 του πεδίου ορισμού της;

Μονάδες 4

- A3.** Αν x_1, x_2, \dots, x_n είναι οι παρατηρήσεις μιας ποσοτικής μεταβλητής X ενός δείγματος μεγέθους n και w_1, w_2, \dots, w_n είναι οι αντίστοιχοι συντελεστές στάθμισης (βαρύτητας), να ορίσετε τον σταθμικό μέσο της μεταβλητής X .

Μονάδες 4

- A4.** Να χαρακτηρίσετε τις προτάσεις που ακολουθούν, γράφοντας στο τετράδιό σας, δίπλα στο γράμμα που αντιστοιχεί σε κάθε πρόταση, τη λέξη **Σωστό**, αν η πρόταση είναι σωστή, ή **Λάθος**, αν η πρόταση είναι λανθασμένη.

- α)** Αν για τη συνάρτηση f ισχύουν $f'(x_0) = 0$ για $x_0 \in (a, b)$, $f'(x) > 0$ στο (a, x_0) και $f'(x) < 0$ στο (x_0, b) , τότε η f παρουσιάζει ελάχιστο στο διάστημα (a, b) για $x = x_0$.
- β)** Ένα τοπικό ελάχιστο μιας συνάρτησης στο πεδίο ορισμού της μπορεί να είναι μεγαλύτερο από ένα τοπικό μέγιστο.
- γ)** Η διακύμανση των παρατηρήσεων μιας ποσοτικής μεταβλητής X εκφράζεται με τις ίδιες μονάδες με τις οποίες εκφράζονται οι παρατηρήσεις.

ΑΡΧΗ 2ΗΣ ΣΕΛΙΔΑΣ – Γ΄ ΗΜΕΡΗΣΙΩΝ

- δ) Αν για τους συντελεστές μεταβολής των δειγμάτων A και B ισχύει $CV_B > CV_A$, τότε λέμε ότι το δείγμα B εμφανίζει μεγαλύτερη ομοιογένεια από το δείγμα A .
- ε) Αν A, B είναι ενδεχόμενα ενός δειγματικού χώρου Ω , τότε η έκφραση «η πραγματοποίηση του A συνεπάγεται την πραγματοποίηση του B » δηλώνει ότι $A \subseteq B$.

Μονάδες 10

ΘΕΜΑ Β

Έστω A, B και Γ ενδεχόμενα ενός δειγματικού χώρου Ω . Οι πιθανότητες των ενδεχομένων $A, A \cap B$ και $A \cup B$ ανήκουν στο σύνολο λύσεων της εξίσωσης

$$(3x - 1) \cdot (8x^2 - 6x + 1) = 0.$$

Η πιθανότητα του ενδεχομένου Γ ανήκει στο σύνολο λύσεων της εξίσωσης

$$9x^2 - 3x - 2 = 0.$$

- B1.** Να αποδείξετε ότι $P(A) = \frac{1}{3}$, $P(A \cap B) = \frac{1}{4}$ και $P(A \cup B) = \frac{1}{2}$.

Μονάδες 5

- B2.** Να υπολογίσετε την πιθανότητα $P(A' - B')$, καθώς επίσης και την πιθανότητα του ενδεχομένου

Δ : «πραγματοποιείται το πολύ ένα από τα ενδεχόμενα A και B ».

Μονάδες 8

- B3.** Να υπολογίσετε την πιθανότητα του ενδεχομένου

E : «πραγματοποιείται μόνο ένα από τα ενδεχόμενα A και B ».

Μονάδες 6

- B4.** Να εξετάσετε αν τα ενδεχόμενα B και Γ είναι ασυμβίβαστα.

Μονάδες 6

ΘΕΜΑ Γ

Θεωρούμε ένα δείγμα n παρατηρήσεων μιας συνεχούς ποσοτικής μεταβλητής X , τις οποίες ομαδοποιούμε σε 5 ισοπλατείς κλάσεις, όπως παρουσιάζονται στον **Πίνακα Ι**, όπου $f_i\%$, $i = 1, 2, 3, 4, 5$ είναι οι σχετικές συχνότητες επί τοις εκατό των αντιστοίχων κλάσεων. Θεωρούμε ότι οι παρατηρήσεις κάθε κλάσης είναι ομοιόμορφα κατανεμημένες. Δίνεται ότι :

- Το ποσοστό των παρατηρήσεων του δείγματος που είναι μικρότερες του 10 είναι 10%.
- Το ποσοστό των παρατηρήσεων του δείγματος που είναι μεγαλύτερες ή ίσες του 16 είναι 30%.
- Στο κυκλικό διάγραμμα σχετικών συχνοτήτων, η γωνία του κυκλικού τομέα που αντιστοιχεί στην 3^η κλάση είναι 108° .
- Η μέση τιμή των παρατηρήσεων του δείγματος είναι $\bar{X} = 14$.

ΑΡΧΗ 3ΗΣ ΣΕΛΙΔΑΣ - Γ΄ ΗΜΕΡΗΣΙΩΝ

Κλάσεις	$f_i\%$
[8 , 10)	
[10 , 12)	
[12 , 14)	
[14 , 16)	
[16 , 18)	

ΠΙΝΑΚΑΣ Ι

- Γ1.** Να αποδείξετε ότι $f_1\%=10, f_2\%=10, f_3\%=30, f_4\%=20, f_5\%=30$. Δεν είναι απαραίτητο να μεταφέρετε στο τετράδιό σας τον **Πίνακα Ι** συμπληρωμένο.

Μονάδες 6

- Γ2.** Να εξετάσετε αν το δείγμα των παρατηρήσεων είναι ομοιογενές.

Δίνεται ότι $\sqrt{6,6} \approx 2,57$.

Μονάδες 7

- Γ3.** Έστω x_1, x_2, x_3 και x_4 τα κέντρα της 1^{ης}, 2^{ης}, 3^{ης} και 4^{ης} κλάσης αντίστοιχα και v_1, v_2, v_3 και v_4 οι συχνότητες της 1^{ης}, 2^{ης}, 3^{ης} και 4^{ης} κλάσης αντίστοιχα. Αν $\sum_{i=1}^4 x_i v_i = 1780$, βρείτε το πλήθος n των παρατηρήσεων του δείγματος.

Μονάδες 5

- Γ4.** Έστω $\alpha_1, \alpha_2, \alpha_3, \alpha_4, \alpha_5$ πέντε τυχαία επιλεγμένες παρατηρήσεις διαφορετικές μεταξύ τους από το παραπάνω δείγμα n παρατηρήσεων. Ορίζουμε ως $\bar{\alpha}$ τη μέση τιμή των πέντε αυτών παρατηρήσεων και S_α την τυπική τους απόκλιση.

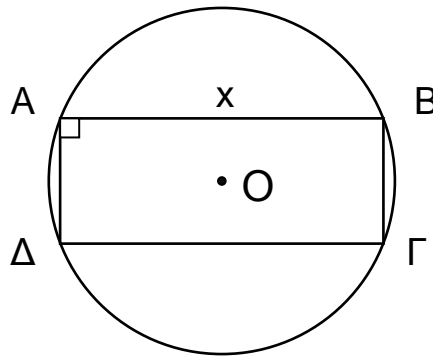
Εάν $\beta_i = \frac{\alpha_i - \bar{\alpha}}{S_\alpha}$, για $i=1, 2, 3, 4, 5$, να δείξετε ότι η μέση τιμή $\bar{\beta}$ του δείγματος

$\beta_i, i=1, 2, 3, 4, 5$ είναι ίση με 0 και η τυπική του απόκλιση S_β είναι ίση με 1.

Μονάδες 7

ΘΕΜΑ Δ

Δίνεται κύκλος (O, ρ) με κέντρο O και ακτίνα $\rho=5$ και ορθογώνιο $AB\Gamma\Delta$ εγγεγραμμένο στον κύκλο αυτόν με πλευρά $AB=x$, όπως φαίνεται στο **Σχήμα Ι**.



ΣΧΗΜΑ Ι

- Δ1.** Να αποδείξετε ότι το εμβαδόν του ορθογωνίου $AB\Gamma\Delta$, ως συνάρτηση του x , δίνεται από τον τύπο $f(x) = x \cdot \sqrt{100 - x^2}$, $0 < x < 10$.

Μονάδες 4

- Δ2.** Να βρείτε την τιμή του x για την οποία το εμβαδόν του ορθογωνίου $AB\Gamma\Delta$ γίνεται μέγιστο. Για την τιμή αυτήν του x , δείξτε ότι το ορθογώνιο $AB\Gamma\Delta$ είναι τετράγωνο.

Μονάδες 5

- Δ3.** Να υπολογίσετε το όριο $\lim_{x \rightarrow 0} \frac{f(1+x) - \sqrt{99}}{98 \cdot x}$.

Μονάδες 8

- Δ4.** Έστω A, B ενδεχόμενα ενός δειγματικού χώρου Ω . Αν $P(A-B) > 0$, να δείξετε ότι

$$f\left(\frac{P(A-B)}{\sqrt{100 - P^2(A)}}\right) \leq f\left(\frac{P(A)}{\sqrt{100 - P^2(A-B)}}\right).$$

Μονάδες 8

ΟΔΗΓΙΕΣ (για τους εξεταζομένους)

1. Στο εξώφυλλο του τετραδίου να γράψετε το εξεταζόμενο μάθημα. Στο εσώφυλλο πάνω-πάνω να συμπληρώσετε τα ατομικά στοιχεία μαθητή. Στην αρχή των απαντήσεών σας να γράψετε πάνω-πάνω την ημερομηνία και το εξεταζόμενο μάθημα. **Να μην αντιγράψετε** τα θέματα στο τετράδιο και **να μη γράψετε** πουθενά στις απαντήσεις σας το όνομά σας.
2. Να γράψετε το ονοματεπώνυμό σας στο πάνω μέρος των φωτοαντιγράφων αμέσως μόλις σας παραδοθούν. **Τυχόν σημειώσεις σας πάνω στα θέματα δεν θα βαθμολογηθούν σε καμία περίπτωση.** Κατά την αποχώρησή σας να παραδώσετε μαζί με το τετράδιο και τα φωτοαντίγραφα.
3. Να απαντήσετε **στο τετράδιό σας** σε όλα τα θέματα **μόνο** με μπλε ή **μόνο** με μαύρο στυλό με μελάνι που δεν σβήνει. Μολύβι επιτρέπεται, **μόνο** αν το ζητάει η εκφώνηση, και **μόνο** για πίνακες, διαγράμματα κλπ.
4. Κάθε απάντηση επιστημονικά τεκμηριωμένη είναι αποδεκτή.
5. Διάρκεια εξέτασης: τρεις (3) ώρες μετά τη διανομή των φωτοαντιγράφων.
6. Χρόνος δυνατής αποχώρησης: 10.30 π.μ.

ΣΑΣ ΕΥΧΟΜΑΣΤΕ ΚΑΛΗ ΕΠΙΤΥΧΙΑ

ΤΕΛΟΣ ΜΗΝΥΜΑΤΟΣ

ΠΑΝΕΛΛΑΔΙΚΕΣ ΕΞΕΤΑΣΕΙΣ

Δ' ΤΑΞΗΣ ΕΣΠΕΡΙΝΟΥ ΓΕΝΙΚΟΥ ΛΥΚΕΙΟΥ ΚΑΙ ΕΠΑΛ (ΟΜΑΔΑ Β')

ΤΕΤΑΡΤΗ 20 ΜΑΪΟΥ 2015

ΕΞΕΤΑΖΟΜΕΝΟ ΜΑΘΗΜΑ:

ΜΑΘΗΜΑΤΙΚΑ ΚΑΙ ΣΤΟΙΧΕΙΑ ΣΤΑΤΙΣΤΙΚΗΣ ΓΕΝΙΚΗΣ ΠΑΙΔΕΙΑΣ

ΣΥΝΟΛΟ ΣΕΛΙΔΩΝ: 4(ΤΕΣΣΕΡΙΣ)

ΘΕΜΑ Α

A1. Αν οι συναρτήσεις f, g είναι παραγωγίσιμες στο \mathbb{R} , να αποδείξετε ότι

$$(f(x) + g(x))' = f'(x) + g'(x), x \in \mathbb{R}$$

Μονάδες 7

A2. Πότε λέμε ότι μια συνάρτηση f είναι παραγωγίσιμη στο σημείο x_0 του πεδίου ορισμού της;

Μονάδες 4

A3. Αν x_1, x_2, \dots, x_n είναι οι παρατηρήσεις μιας ποσοτικής μεταβλητής X ενός δείγματος μεγέθους n και w_1, w_2, \dots, w_n είναι οι αντίστοιχοι συντελεστές στάθμισης (βαρύτητας), να ορίσετε τον σταθμικό μέσο της μεταβλητής X .

Μονάδες 4

A4. Να χαρακτηρίσετε τις προτάσεις που ακολουθούν, γράφοντας στο τετράδιό σας, δίπλα στο γράμμα που αντιστοιχεί σε κάθε πρόταση, τη λέξη **Σωστό**, αν η πρόταση είναι σωστή, ή **Λάθος**, αν η πρόταση είναι λανθασμένη.

α) Αν για τη συνάρτηση f ισχύουν $f'(x_0) = 0$ για $x_0 \in (a, b)$, $f'(x) > 0$ στο (a, x_0) και $f'(x) < 0$ στο (x_0, b) , τότε η f παρουσιάζει ελάχιστο στο διάστημα (a, b) για $x = x_0$.

β) Ένα τοπικό ελάχιστο μιας συνάρτησης στο πεδίο ορισμού της μπορεί να είναι μεγαλύτερο από ένα τοπικό μέγιστο.

γ) Η διακύμανση των παρατηρήσεων μιας ποσοτικής μεταβλητής X εκφράζεται με τις ίδιες μονάδες με τις οποίες εκφράζονται οι παρατηρήσεις.

ΑΡΧΗ 2ΗΣ ΣΕΛΙΔΑΣ - Δ' ΕΣΠΕΡΙΝΩΝ

- δ) Αν για τους συντελεστές μεταβολής των δειγμάτων A και B ισχύει $CV_B > CV_A$, τότε λέμε ότι το δείγμα B εμφανίζει μεγαλύτερη ομοιογένεια από το δείγμα A .
- ε) Μία συνάρτηση f με πεδίο ορισμού A λέγεται συνεχής αν για κάθε $x_0 \in A$ ισχύει $\lim_{x \rightarrow x_0} f(x) = f(x_0)$.

Μονάδες 10

ΘΕΜΑ Β

Δίνεται η συνάρτηση $f(x) = x^3 - 3x + 4$, $x \in \mathbb{R}$.

B1. Να βρείτε τα τοπικά ακρότατα της συνάρτησης f .

Μονάδες 9

B2. Να υπολογίσετε το όριο $\lim_{x \rightarrow 1} \frac{f'(x)}{x-1}$.

Μονάδες 8

B3. Να βρείτε την εξίσωση της εφαπτομένης της γραφικής παράστασης της συνάρτησης f στο σημείο $(2, f(2))$.

Μονάδες 8

ΘΕΜΑ Γ

Θεωρούμε ένα δείγμα n παρατηρήσεων μιας συνεχούς ποσοτικής μεταβλητής X , τις οποίες ομαδοποιούμε σε 5 ισοπλατείς κλάσεις, όπως παρουσιάζονται στον **Πίνακα Ι**, όπου $f_i\%$, $i = 1, 2, 3, 4, 5$ είναι οι σχετικές συχνότητες επί τοις εκατό των αντιστοίχων κλάσεων. Θεωρούμε ότι οι παρατηρήσεις κάθε κλάσης είναι ομοιόμορφα κατανεμημένες. Δίνεται ότι :

- Το ποσοστό των παρατηρήσεων του δείγματος που είναι μικρότερες του 10 είναι 10%.
- Το ποσοστό των παρατηρήσεων του δείγματος που είναι μεγαλύτερες ή ίσες του 16 είναι 30%.
- Στο κυκλικό διάγραμμα σχετικών συχνοτήτων, η γωνία του κυκλικού τομέα που αντιστοιχεί στην 3^η κλάση είναι 108° .
- Η μέση τιμή των παρατηρήσεων του δείγματος είναι $\bar{X} = 14$.

Κλάσεις	$f_i\%$
[8 , 10)	
[10 , 12)	
[12 , 14)	
[14 , 16)	
[16 , 18)	

ΠΙΝΑΚΑΣ Ι

ΑΡΧΗ 3ΗΣ ΣΕΛΙΔΑΣ - Δ' ΕΣΠΕΡΙΝΩΝ

- Γ1. Να αποδείξετε ότι $f_1\%=10, f_2\%=10, f_3\%=30, f_4\%=20, f_5\%=30$. Δεν είναι απαραίτητο να μεταφέρετε στο τετράδιό σας τον **Πίνακα Ι** συμπληρωμένο.

Μονάδες 8

- Γ2. Να εξετάσετε αν το δείγμα των παρατηρήσεων είναι ομοιογενές.

Δίνεται ότι $\sqrt{6,6} \approx 2,57$.

Μονάδες 9

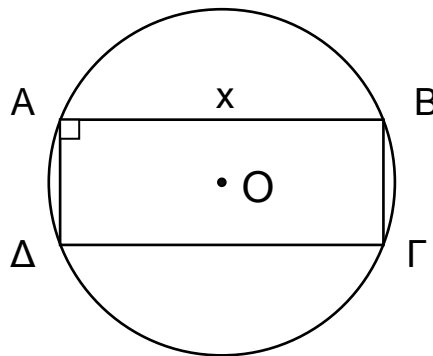
- Γ3. Έστω x_1, x_2, x_3 και x_4 τα κέντρα της 1^{ης}, 2^{ης}, 3^{ης} και 4^{ης} κλάσης αντίστοιχα και v_1, v_2, v_3 και v_4 οι συχνότητες της 1^{ης}, 2^{ης}, 3^{ης} και 4^{ης} κλάσης αντίστοιχα. Αν

$$\sum_{i=1}^4 x_i v_i = 1780, \text{ βρείτε το πλήθος } n \text{ των παρατηρήσεων του δείγματος.}$$

Μονάδες 8

ΘΕΜΑ Δ

Δίνεται κύκλος (O, ρ) με κέντρο O και ακτίνα $\rho=5$ και ορθογώνιο $AB\Gamma\Delta$ εγγεγραμμένο στον κύκλο αυτόν με πλευρά $AB=x$, όπως φαίνεται στο **Σχήμα Ι**.



ΣΧΗΜΑ Ι

- Δ1. Να αποδείξετε ότι το εμβαδόν του ορθογωνίου $AB\Gamma\Delta$, ως συνάρτηση του x , δίνεται από τον τύπο $f(x) = x \cdot \sqrt{100 - x^2}$, $0 < x < 10$.

Μονάδες 5

- Δ2. Να βρείτε την τιμή του x για την οποία το εμβαδόν του ορθογωνίου $AB\Gamma\Delta$ γίνεται μέγιστο. Για την τιμή αυτήν του x , δείξτε ότι το ορθογώνιο $AB\Gamma\Delta$ είναι τετράγωνο.

Μονάδες 6

- Δ3. Να βρεθούν οι τιμές των $\kappa, \lambda \in \mathbb{R}$, ώστε η ευθεία $y = \kappa \cdot x + \lambda$ να εφάπτεται στη γραφική παράσταση της συνάρτησης f στο σημείο της $(6, f(6))$.

Μονάδες 6

- Δ4. Να υπολογιστεί το όριο $\lim_{x \rightarrow 0} \frac{f(1+x) - \sqrt{99}}{98 \cdot x}$.

Μονάδες 8

ΟΔΗΓΙΕΣ (για τους εξεταζομένους)

1. Στο εξώφυλλο του τετραδίου να γράψετε το εξεταζόμενο μάθημα. Στο εσώφυλλο πάνω-πάνω να συμπληρώσετε τα ατομικά στοιχεία μαθητή. Στην αρχή των απαντήσεών σας να γράψετε πάνω-πάνω την ημερομηνία και το εξεταζόμενο μάθημα. Να μην αντιγράψετε τα θέματα στο τετράδιο και να μη γράψετε πουθενά στις απαντήσεις σας το όνομά σας.
2. Να γράψετε το ονοματεπώνυμό σας στο πάνω μέρος των φωτοαντιγράφων αμέσως μόλις σας παραδοθούν. Τυχόν σημειώσεις σας πάνω στα θέματα δεν θα βαθμολογηθούν σε καμία περίπτωση. Κατά την αποχώρησή σας να παραδώσετε μαζί με το τετράδιο και τα φωτοαντίγραφα.
3. Να απαντήσετε στο τετράδιό σας σε όλα τα θέματα μόνο με μπλε ή μόνο με μαύρο στυλό με μελάνι που δεν σβήνει. Μολύβι επιτρέπεται, μόνο αν το ζητάει η εκφώνηση, και μόνο για πίνακες, διαγράμματα κλπ.
4. Κάθε απάντηση επιστημονικά τεκμηριωμένη είναι αποδεκτή.
5. Διάρκεια εξέτασης: τρεις (3) ώρες μετά τη διανομή των φωτοαντιγράφων.
6. Χρόνος δυνατής αποχώρησης: 10.30 π.μ.

ΣΑΣ ΕΥΧΟΜΑΣΤΕ ΚΑΛΗ ΕΠΙΤΥΧΙΑ

ΤΕΛΟΣ ΜΗΝΥΜΑΤΟΣ

ΑΡΧΗ 1ΗΣ ΣΕΛΙΔΑΣ – ΕΠΑΝΑΛΗΠΤΙΚΕΣ Γ΄ ΗΜΕΡΗΣΙΩΝ

ΕΠΑΝΑΛΗΠΤΙΚΕΣ ΠΑΝΕΛΛΑΔΙΚΕΣ ΕΞΕΤΑΣΕΙΣ

Γ΄ ΤΑΞΗΣ ΗΜΕΡΗΣΙΟΥ ΓΕΝΙΚΟΥ ΛΥΚΕΙΟΥ

ΤΕΤΑΡΤΗ 10 ΙΟΥΝΙΟΥ 2015 - ΕΞΕΤΑΖΟΜΕΝΟ ΜΑΘΗΜΑ:

ΜΑΘΗΜΑΤΙΚΑ ΚΑΙ ΣΤΟΙΧΕΙΑ ΣΤΑΤΙΣΤΙΚΗΣ ΓΕΝΙΚΗΣ ΠΑΙΔΕΙΑΣ

ΣΥΝΟΛΟ ΣΕΛΙΔΩΝ: ΤΕΣΣΕΡΙΣ (4)

ΘΕΜΑ Α

A1. Για οποιαδήποτε ασυμβίβαστα μεταξύ τους ενδεχόμενα A και B , να αποδείξετε ότι

$$P(A \cup B) = P(A) + P(B).$$

Μονάδες 7

A2. Πότε μια συνάρτηση f με πεδίο ορισμού A λέγεται συνεχής;

Μονάδες 4

A3. Πώς ορίζεται ο συντελεστής μεταβολής ή συντελεστής μεταβλητότητας των παρατηρήσεων μιας ποσοτικής μεταβλητής X , αν $\bar{x} > 0$, και πώς, αν $\bar{x} < 0$;

Μονάδες 4

A4. Να χαρακτηρίσετε τις προτάσεις που ακολουθούν, γράφοντας στο τετράδιό σας, δίπλα στο γράμμα που αντιστοιχεί σε κάθε πρόταση, τη λέξη **Σωστό**, αν η πρόταση είναι σωστή, ή **Λάθος**, αν η πρόταση είναι λανθασμένη.

- α) Αν οι συναρτήσεις f, g έχουν κοινό πεδίο ορισμού A , τότε η συνάρτηση $\frac{f}{g}$ έχει πάντοτε πεδίο ορισμού το A .
- β) Αν μια συνάρτηση f είναι παραγωγίσιμη σε ένα διάστημα Δ και ισχύει ότι $f'(x) < 0$ για κάθε εσωτερικό σημείο του Δ , τότε η f είναι γνησίως φθίνουσα στο Δ .
- γ) Για τη σχετική συχνότητα f_i της τιμής x_i μιας μεταβλητής X , ισχύει ότι $0 \leq f_i \leq 1$.
- δ) Η τυπική απόκλιση S των παρατηρήσεων μιας ποσοτικής μεταβλητής X είναι μέτρο θέσης.
- ε) Έστω A, B ενδεχόμενα ενός δειγματικού χώρου Ω . Το ενδεχόμενο $A \cup B$ πραγματοποιείται μόνο όταν τα A, B πραγματοποιούνται συγχρόνως.

Μονάδες 10

ΤΕΛΟΣ 1ΗΣ ΑΠΟ 4 ΣΕΛΙΔΕΣ

ΘΕΜΑ Β

Δίνεται η συνάρτηση $f(x)=\alpha x^3+\beta x^2-4$, $x \in \mathbb{R}$, της οποίας η γραφική παράσταση εφάπτεται στον άξονα $x'x$ στο σημείο $A(-2,0)$.

B1. Να αποδείξετε ότι $\alpha=1$ και $\beta=3$.

Μονάδες 6

B2. Να μελετήσετε τη συνάρτηση f ως προς τη μονοτονία και τα ακρότατα.

Μονάδες 7

B3. Να βρείτε το σημείο της γραφικής παράστασης της f , στο οποίο η εφαπτομένη έχει τον ελάχιστο συντελεστή διεύθυνσης.

Μονάδες 6

B4. Να υπολογίσετε το όριο:

$$\lim_{x \rightarrow -2} \frac{f'(x)}{\sqrt{x^2+1}-\sqrt{5}}$$

Μονάδες 6

ΘΕΜΑ Γ

Θεωρούμε ένα δείγμα N συνδρομητών μιας εταιρείας κινητής τηλεφωνίας. Για τον μήνα Μάιο, οι χρόνοι ομιλίας (σε ώρες) που έχουν χρεωθεί οι συνδρομητές του δείγματος έχουν χωριστεί σε πέντε κλάσεις ίσου πλάτους. Θεωρούμε ότι οι παρατηρήσεις κάθε κλάσης είναι ομοιόμορφα κατανεμημένες.

Δίνεται ότι:

- Η μικρότερη διάρκεια χρόνου ομιλίας που παρατηρήθηκε στο δείγμα είναι μηδέν.
- Το κέντρο της πέμπτης κλάσης είναι 18.
- Στο κυκλικό διάγραμμα σχετικών συχνοτήτων, η γωνία του κυκλικού τομέα που αντιστοιχεί στην πέμπτη κλάση ισούται με 36° .
- $\frac{N_1}{4} = \frac{N_2}{9} = \frac{N_3}{15} = \frac{N_4}{18}$, όπου N_1, N_2, N_3 και N_4 είναι οι αθροιστικές συχνότητες της 1^{ης}, 2^{ης}, 3^{ης} και 4^{ης} κλάσης αντίστοιχα.

Γ1. Να αποδείξετε ότι το πλάτος c της κάθε κλάσης είναι 4.

Μονάδες 4

Γ2. Να μεταφέρετε στο τετράδιό σας τον Πίνακα **Ι** συμπληρωμένο, αιτιολογώντας την απάντησή σας.

ΑΡΧΗ 3ΗΣ ΣΕΛΙΔΑΣ – ΕΠΑΝΑΛΗΠΤΙΚΕΣ Γ΄ ΗΜΕΡΗΣΙΩΝ

Κλάσεις (σε ώρες)	Κεντρικές τιμές x_i	Σχετικές συχνότητες $f_i\%$
[,)		
[,)		
[,)		
[,)		
[,)		
Σύνολο		

Πίνακας Ι

Μονάδες 10

Για τα ερωτήματα Γ3 και Γ4, δίνεται ότι $f_1\%=20$, $f_2\%=25$, $f_3\%=30$, $f_4\%=15$ και $f_5\%=10$.

Γ3. Να βρείτε το ποσοστό των συνδρομητών του δείγματος οι οποίοι έχουν χρεωθεί τουλάχιστον 3 ώρες και λιγότερες από 10 ώρες ομιλίας.

Μονάδες 5

Γ4. Υποθέτουμε ότι οι συνδρομητές της εταιρείας δικαιούνται κάθε μήνα μέχρι 4 ώρες δωρεάν χρόνο ομιλίας. Έτσι, πληρώνουν μόνο για το χρόνο ομιλίας που τους έχει χρεωθεί επιπλέον των 4 ωρών. Αφαιρούμε από το δείγμα τους συνδρομητές που χρεώθηκαν λιγότερες από 4 ώρες. Να υπολογίσετε τη μέση τιμή του χρόνου (σε ώρες) που πλήρωσαν οι υπόλοιποι συνδρομητές του δείγματος τον μήνα Μάιο.

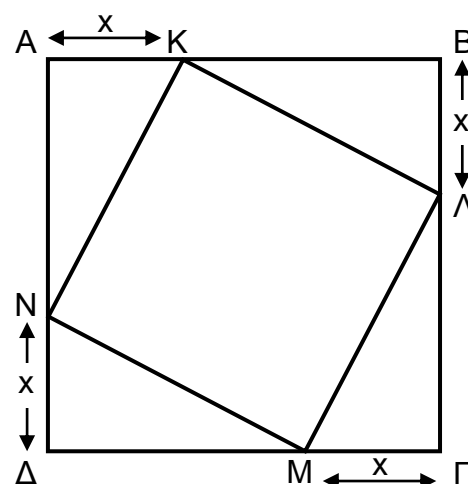
Μονάδες 6

ΘΕΜΑ Δ

Δίνεται τετράγωνο ΑΒΓΔ πλευράς 4. Θεωρούμε τα εσωτερικά σημεία Κ, Λ, Μ και Ν των πλευρών ΑΒ, ΒΓ, ΓΔ και ΔΑ αντίστοιχα, έτσι ώστε $AK = BL = GM = DN = x$, όπως φαίνεται στο Σχήμα Ι.

Δ1. Να αποδείξετε ότι το εμβαδόν του ΚΛΜΝ, ως συνάρτηση του x , είναι:

$$E(x) = 2(x^2 - 4x + 8), \quad x \in (0, 4).$$



Σχήμα Ι

Μονάδες 4

Δ2. Να βρείτε την τιμή του x για την οποία το εμβαδόν $E(x)$ γίνεται ελάχιστο.

Μονάδες 4

ΑΡΧΗ 4ΗΣ ΣΕΛΙΔΑΣ – ΕΠΑΝΑΛΗΠΤΙΚΕΣ Γ΄ ΗΜΕΡΗΣΙΩΝ

Δ3. Θεωρούμε τις τιμές $y_i = E(x_i)$, $x_i \in (0,4)$, $i=1, 2, 3, \dots, 19$, έτσι ώστε:

- Τα x_i , $i=1, 2, 3, \dots, 19$ είναι διαφορετικά ανά δύο μεταξύ τους.
- Η μέση τιμή των x_i , $i=1, 2, 3, \dots, 19$ και η διάμεσός τους είναι ίσες με 2.
- Η μέση τιμή των y_i , $i=1, 2, 3, \dots, 19$ είναι ίση με 8,02.

α) Να βρείτε τη μέση τιμή των x_i^2 , $i=1, 2, 3, \dots, 19$.

(Μονάδες 6)

β) Να βρείτε την τυπική απόκλιση s_x των x_i , $i=1, 2, 3, \dots, 19$ και να εξετάσετε αν το δείγμα τους είναι ομοιογενές.

$$\text{Δίνεται ότι } s^2 = \frac{1}{v} \left\{ \sum_{i=1}^v t_i^2 - \frac{\left(\sum_{i=1}^v t_i \right)^2}{v} \right\}, \text{ όπου } t_i, i=1, 2, \dots, v \text{ είναι}$$

παρατηρήσεις μιας μεταβλητής.

(Μονάδες 5)

γ) Επιλέγουμε τυχαία μία από τις τιμές x_i , $i=1, 2, 3, \dots, 19$. Να βρείτε την πιθανότητα των ενδεχομένων :

$A = \{ x_i, i=1, 2, 3, \dots, 19, \text{ έτσι ώστε } x_i^2 \geq 4 \},$

$B = \{ x_i, i=1, 2, 3, \dots, 19, \text{ έτσι ώστε } E(x_i) \leq 8 \}$ και

Γ: «Δεν πραγματοποιείται κανένα από τα ενδεχόμενα A και B».

(Μονάδες 6)

Μονάδες 17

ΟΔΗΓΙΕΣ (για τους εξεταζομένους)

1. Στο εξώφυλλο του τετραδίου να γράψετε το εξεταζόμενο μάθημα. Στο εσώφυλλο πάνω-πάνω να συμπληρώσετε τα Ατομικά στοιχεία μαθητή. Στην αρχή των απαντήσεών σας να γράψετε πάνω-πάνω την ημερομηνία και το εξεταζόμενο μάθημα. Να μην αντιγράψετε τα θέματα στο τετράδιο και να μη γράψετε πουθενά στις απαντήσεις σας το όνομά σας.
2. Να γράψετε το ονοματεπώνυμό σας στο πάνω μέρος των φωτοαντιγράφων αμέσως μόλις σας παραδοθούν. Τυχόν σημειώσεις σας πάνω στα θέματα δεν θα βαθμολογηθούν σε καμία περίπτωση. Κατά την αποχώρησή σας να παραδώσετε μαζί με το τετράδιο και τα φωτοαντίγραφα.
3. Να απαντήσετε στο τετράδιό σας σε όλα τα θέματα μόνο με μπλε ή μόνο με μαύρο στυλό με μελάνι που δεν σβήνει. Μολύβι επιτρέπεται, μόνο αν το ζητάει η εκφώνηση, και μόνο για πίνακες, διαγράμματα κλπ.
4. Κάθε απάντηση επιστημονικά τεκμηριωμένη είναι αποδεκτή.
5. Διάρκεια εξέτασης: τρεις (3) ώρες μετά τη διανομή των φωτοαντιγράφων.
6. Ωρα δυνατής αποχώρησης: 18.00

**ΣΑΣ ΕΥΧΟΜΑΣΤΕ ΚΑΛΗ ΕΠΙΤΥΧΙΑ
ΤΕΛΟΣ ΜΗΝΥΜΑΤΟΣ**

ΤΕΛΟΣ 4ΗΣ ΑΠΟ 4 ΣΕΛΙΔΕΣ