

ΑΠΟΛΥΤΗΡΙΕΣ ΕΞΕΤΑΣΕΙΣ Γ' ΤΑΞΗΣ
ΕΝΙΑΙΟΥ ΛΥΚΕΙΟΥ
ΣΑΒΒΑΤΟ 1 ΙΟΥΝΙΟΥ 2002
ΕΞΕΤΑΖΟΜΕΝΟ ΜΑΘΗΜΑ ΤΕΧΝΟΛΟΓΙΚΗΣ ΚΑΤΕΥΘΥΝΣΗΣ
(ΚΥΚΛΟΣ ΠΛΗΡΟΦΟΡΙΚΗΣ ΚΑΙ ΥΠΗΡΕΣΙΩΝ):
ΑΝΑΠΤΥΞΗ ΕΦΑΡΜΟΓΩΝ ΣΕ ΠΡΟΓΡΑΜΜΑΤΙΣΤΙΚΟ
ΠΕΡΙΒΑΛΛΟΝ
ΣΥΝΟΛΟ ΣΕΛΙΔΩΝ: ΠΕΝΤΕ (5)

ΘΕΜΑ 1ο

A. Να αναφέρετε ονομαστικά τις βασικές λειτουργίες (πράξεις) επί των δομών δεδομένων.

Μονάδες 8

B. Στον παρακάτω πίνακα η **Στήλη Α** περιέχει δομές δεδομένων και η **Στήλη Β** περιέχει λειτουργίες. Να γράψετε στο τετράδιό σας τους αριθμούς της **Στήλης Α** και δίπλα τα γράμματα της **Στήλης Β** που αντιστοιχούν σωστά. Ας σημειωθεί ότι σε κάποιες δομές δεδομένων μπορεί να αντιστοιχούν περισσότερες από μία λειτουργίες.

Στήλη Α	Στήλη Β
1. Ουρά	α. Απόθεση
2. Στοίβα	β. Εξαγωγή
	γ. Ώθηση
	δ. Εισαγωγή

Μονάδες 4

Γ. Να περιγράψετε τη διαδικασία για τη μετατροπή με μεταγλωττιστή ενός πηγαίου προγράμματος σε εκτελέσιμο πρόγραμμα, συμπεριλαμβανομένης της ανίχνευσης και διόρθωσης λαθών.

Μονάδες 18

Δ. Τι γνωρίζετε για τον παράλληλο προγραμματισμό;

Μονάδες 10

ΘΕΜΑ 2ο

Να εκτελέσετε το παρακάτω τμήμα αλγορίθμου, για $K = 24$ και $L = 40$. Να γράψετε στο τετράδιό σας τις τιμές των μεταβλητών X , Y καθώς αυτές τυπώνονται με την εντολή **Εμφάνισε** X , Y (τόσο μέσα στη δομή επανάληψης όσο και στο τέλος του αλγορίθμου).

$X \leftarrow K$

$Y \leftarrow L$

Αν $X < Y$ **τότε**

$TEMP \leftarrow X$

$X \leftarrow Y$

$Y \leftarrow TEMP$

Τέλος_αν

Όσο $Y \neq 0$ **επανάλαβε**

$TEMP \leftarrow Y$

$Y \leftarrow X \text{ MOD } Y$

$X \leftarrow TEMP$

Εμφάνισε X , Y

Τέλος_επανάληψης

$Y \leftarrow (K * L) \text{ DIV } X$

Εμφάνισε X , Y

Μονάδες 20

ΘΕΜΑ 3ο

Με το νέο σύστημα πληρωμής των διοδίων, οι οδηγοί των τροχοφόρων έχουν τη δυνατότητα να πληρώνουν το αντίτιμο των διοδίων με ειδική μαγνητική κάρτα. Υποθέστε

ότι υπάρχει μηχανήμα το οποίο διαθέτει είσοδο για την κάρτα και φωτοκύτταρο. Το μηχανήμα διαβάζει από την κάρτα το υπόλοιπο των χρημάτων και το αποθηκεύει σε μία μεταβλητή Y και, με το φωτοκύτταρο, αναγνωρίζει τον τύπο του τροχοφόρου και το αποθηκεύει σε μία μεταβλητή T . Υπάρχουν τρεις τύποι τροχοφόρων: δίκυκλα (Δ), επιβατικά (E) και φορτηγά (Φ), με αντίτιμο διόδων 1, 2 και 3 ευρώ αντίστοιχα.

Να αναπτύξετε αλγόριθμο, ο οποίος:

- α.** ελέγχει τον τύπο του τροχοφόρου και εκχωρεί στη μεταβλητή A το αντίτιμο των διόδων, ανάλογα με τον τύπο του τροχοφόρου

Μονάδες 8

- β.** ελέγχει την πληρωμή των διόδων με τον παρακάτω τρόπο.

Αν το υπόλοιπο της κάρτας επαρκεί για την πληρωμή του αντιτίμου των διόδων, αφαιρεί το ποσό αυτό από την κάρτα. Αν η κάρτα δεν έχει υπόλοιπο, το μηχανήμα ειδοποιεί με μήνυμα για το ποσό που πρέπει να πληρωθεί. Αν το υπόλοιπο δεν επαρκεί, μηδενίζεται η κάρτα και δίνεται με μήνυμα το ποσό που απομένει να πληρωθεί.

Μονάδες 12

ΘΕΜΑ 4ο

Μια εταιρεία αποθηκεύει είκοσι (20) προϊόντα σε δέκα (10) αποθήκες. Να γράψετε πρόγραμμα στη γλώσσα προγραμματισμού "ΓΛΩΣΣΑ", το οποίο:

- α.** περιέχει τμήμα δήλωσης των μεταβλητών του προγράμματος

Μονάδες 3

- β. εισάγει σε μονοδιάστατο πίνακα τα ονόματα των είκοσι προϊόντων

Μονάδες 3

- γ. εισάγει σε πίνακα δύο διαστάσεων $\Pi[20,10]$ την πληροφορία που αφορά στην παρουσία ενός προϊόντος σε μια αποθήκη (καταχωρούμε την τιμή 1 στην περίπτωση που υπάρχει το προϊόν στην αποθήκη και την τιμή 0, αν το προϊόν δεν υπάρχει στην αποθήκη).

Μονάδες 4

- δ. υπολογίζει σε πόσες αποθήκες βρίσκεται το κάθε προϊόν

Μονάδες 6

- ε. τυπώνει το όνομα κάθε προϊόντος και το πλήθος των αποθηκών στις οποίες υπάρχει το προϊόν.

Μονάδες 4

Παρατηρήσεις που αφορούν στα ΘΕΜΑΤΑ 2ο, 3ο, 4ο

1. Οι εντολές ψευδοκώδικα σε έναν αλγόριθμο και οι εντολές και οι δηλώσεις προγράμματος στη γλώσσα προγραμματισμού "ΓΛΩΣΣΑ" μπορούν ισοδύναμα να γραφούν με μικρά ή κεφαλαία γράμματα.
2. Όπου γίνεται χρήση εισαγωγικών, μπορούν ισοδύναμα να χρησιμοποιηθούν μονά (') ή διπλά εισαγωγικά (").

ΟΔΗΓΙΕΣ (για τους εξεταζόμενους)

1. Στο τετράδιο να γράψετε μόνο τα προκαταρκτικά (ημερομηνία, κατεύθυνση, εξεταζόμενο μάθημα). Τα θέματα να μην τα

αντιγράψετε στο τετράδιο. Τα σχήματα που θα χρησιμοποιήσετε στο τετράδιο μπορούν να γίνουν και με μολύβι.

2. Να γράψετε το ονοματεπώνυμό σας στο πάνω μέρος των φωτοαντιγράφων αμέσως μόλις σας παραδοθούν. Καμιά άλλη σημείωση δεν επιτρέπεται να γράψετε.

Κατά την αποχώρησή σας να παραδώσετε μαζί με το τετράδιο και τα φωτοαντίγραφα, τα οποία και θα καταστραφούν μετά το πέρας της εξέτασης

3. Να απαντήσετε **στο τετράδιό σας** σε όλα τα θέματα.
4. Κάθε λύση επιστημονικά τεκμηριωμένη είναι αποδεκτή.
5. Διάρκεια εξέτασης: Τρεις (3) ώρες μετά τη διανομή των φωτοαντιγράφων.
6. Χρόνος δυνατής αποχώρησης : Μιάμιση (1 1/2) ώρα μετά τη διανομή των φωτοαντιγράφων.

ΚΑΛΗ ΕΠΙΤΥΧΙΑ

ΤΕΛΟΣ ΜΗΝΥΜΑΤΟΣ

ΑΠΟΛΥΤΗΡΙΕΣ ΕΞΕΤΑΣΕΙΣ Δ' ΤΑΞΗΣ
ΕΣΠΕΡΙΝΟΥ ΕΝΙΑΙΟΥ ΛΥΚΕΙΟΥ
ΔΕΥΤΕΡΑ 10 ΙΟΥΝΙΟΥ 2002
ΕΞΕΤΑΖΟΜΕΝΟ ΜΑΘΗΜΑ ΤΕΧΝΟΛΟΓΙΚΗΣ
ΚΑΤΕΥΘΥΝΣΗΣ (ΚΥΚΛΟΣ ΠΛΗΡΟΦΟΡΙΚΗΣ ΚΑΙ
ΥΠΗΡΕΣΙΩΝ):
ΑΝΑΠΤΥΞΗ ΕΦΑΡΜΟΓΩΝ ΣΕ ΠΡΟΓΡΑΜΜΑΤΙΣΤΙΚΟ
ΠΕΡΙΒΑΛΛΟΝ
ΣΥΝΟΛΟ ΣΕΛΙΔΩΝ: ΠΕΝΤΕ (5)

ΘΕΜΑ 1ο

A. 1. Πότε λέμε ότι ένα πρόβλημα είναι

- α. επιλύσιμο
- β. άλυτο
- γ. δομημένο;

Μονάδες 6

2. Με ποια κριτήρια κατηγοριοποιούνται τα προβλήματα σε επιλύσιμα, άλυτα και δομημένα;

Μονάδες 4

3. Να αναφέρετε από ένα παράδειγμα για καθεμιά από τις παραπάνω κατηγορίες.

Μονάδες 6

B. Να αναφέρετε συνοπτικά τους λόγους, για τους οποίους αναθέτουμε την επίλυση ενός προβλήματος σε υπολογιστή.

Μονάδες 4

Γ. Δίνεται ο πίνακας αλήθειας :

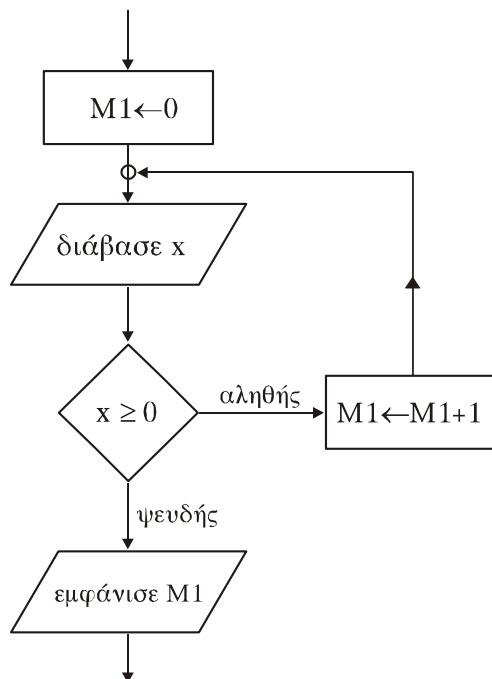
Πρόταση Α	Πρόταση Β	όχι Β (Άρνηση)	Α και Β (Σύζευξη)	Α ή Β (Διάζευξη)
Ψευδής	Αληθής			
Ψευδής	Ψευδής			

Να μεταφέρετε τον παραπάνω πίνακα στο τετράδιό σας και να συμπληρώσετε κατάλληλα τις κενές θέσεις του.

Μονάδες 6

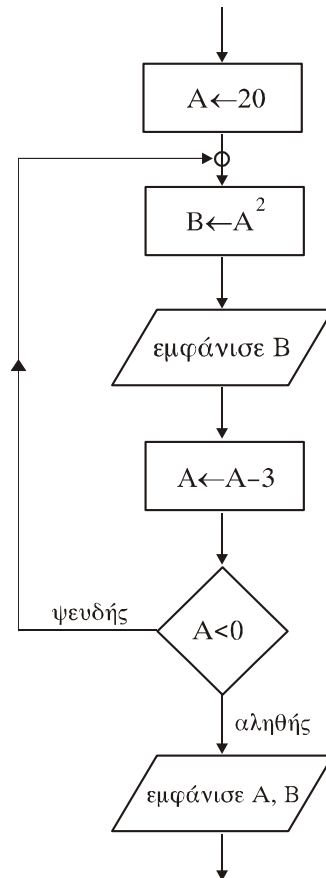
Δ. Να γράψετε τα τμήματα αλγορίθμου, που αντιστοιχούν στα τμήματα των διαγραμμάτων ροής (α) και (β), που ακολουθούν.

(α)



Μονάδες 7

(β)



Μονάδες 7

ΘΕΜΑ 2ο

Ο μονοδιάστατος αριθμητικός πίνακας Table έχει τα ακόλουθα στοιχεία:

1 ^η θέση	2 ^η θέση	3 ^η θέση	4 ^η θέση	5 ^η θέση
43	72	-4	63	56

Δίνεται το παρακάτω τμήμα αλγορίθμου :

Για I από 2 μέχρι 5

Για J από 5 μέχρι I με_βήμα -1

Αν $\text{Table}[J-1] < \text{Table}[J]$ τότε

Αντιμετάθεσε $\text{Table}[J-1], \text{Table}[J]$

Τέλος_αν

Τέλος_επανάληψης

Τέλος_επανάληψης

Να μεταφερθεί στο τετράδιό σας ο ακόλουθος πίνακας και να συμπληρωθεί για όλες τις τιμές του J, που αντιστοιχούν σε I=2 και I=3.

		Πίνακας				
I	J	1 ^η	2 ^η	3 ^η	4 ^η	5 ^η
2	5	43	72	-4	63	56
3						

Μονάδες 20

ΘΕΜΑ 3ο

Δίνονται η έκταση, ο πληθυσμός και το όνομα καθεμιάς από τις 15 χώρες της Ευρωπαϊκής Ένωσης. Να αναπτύξετε αλγόριθμο που

α) θα διαβάσει τα παραπάνω δεδομένα,

Μονάδες 4

- β) θα εμφανίζει τη χώρα με τη μεγαλύτερη έκταση,
Μονάδες 6
- γ) θα εμφανίζει τη χώρα με το μικρότερο πληθυσμό και
Μονάδες 6
- δ) θα εμφανίζει το μέσο όρο του πληθυσμού των 15 χωρών
της Ευρωπαϊκής Ένωσης.
Μονάδες 4

ΘΕΜΑ 4ο

Στο πλαίσιο προγράμματος προληπτικής ιατρικής για την αντιμετώπιση του νεανικού διαβήτη έγιναν αιματολογικές εξετάσεις στους 90 μαθητές (αγόρια και κορίτσια) ενός Γυμνασίου.

Για κάθε παιδί καταχωρίστηκαν τα ακόλουθα στοιχεία :

1. **ονοματεπώνυμο μαθητή**
2. **κωδικός φύλου** ("Α" για τα αγόρια και "Κ" για τα κορίτσια)
3. **περιεκτικότητα σακχάρου στο αίμα.**

Οι φυσιολογικές τιμές σακχάρου στο αίμα κυμαίνονται από 70 έως 110 mg/dl (συμπεριλαμβανομένων και των ακραίων τιμών).

Να αναπτύξετε αλγόριθμο που

- α) θα διαβάξει τα παραπάνω στοιχεία (ονοματεπώνυμο, φύλο, περιεκτικότητα σακχάρου στο αίμα) και θα ελέγχει την αξιόπιστη καταχώρισή τους (δηλαδή το φύλο να είναι μόνο "Α" ή "Κ" και η περιεκτικότητα σακχάρου στο αίμα να είναι θετικός αριθμός),

Μονάδες 5

- β) θα εμφανίζει για κάθε παιδί του οποίου η περιεκτικότητα σακχάρου στο αίμα είναι εκτός των φυσιολογικών τιμών, το ονοματεπώνυμο, το φύλο και την περιεκτικότητα του σακχάρου,

Μονάδες 5

γ) θα εμφανίζει το συνολικό αριθμό των αγοριών των οποίων η περιεκτικότητα σακχάρου στο αίμα δεν είναι φυσιολογική και

Μονάδες 5

δ) θα εμφανίζει το συνολικό αριθμό των κοριτσιών των οποίων η περιεκτικότητα σακχάρου στο αίμα δεν είναι φυσιολογική.

Μονάδες 5

ΣΗΜΕΙΩΣΕΙΣ :

1. Αντί του συμβόλου (\leftarrow) μπορεί ισοδύναμα να χρησιμοποιηθεί το σύμβολο ($:=$) ή ($=$).
2. Οι μαθητές μπορούν να διατυπώνουν τις απαντήσεις των θεμάτων, είτε σε οποιαδήποτε μορφή παράστασης αλγορίθμου, είτε σε "ΓΛΩΣΣΑ", είτε σε Pascal, είτε σε Basic, είτε σε Turbo Pascal, είτε σε Quick Basic.

ΟΔΗΓΙΕΣ (για τους εξεταζόμενους)

1. Στο τετράδιο να γράψετε μόνο τα προκαταρκτικά (ημερομηνία, κατεύθυνση, εξεταζόμενο μάθημα). Τα θέματα να μην τα αντιγράψετε στο τετράδιο. Τα σχήματα που θα χρησιμοποιήσετε στο τετράδιο μπορούν να γίνουν και με μολύβι.
2. Να γράψετε το ονοματεπώνυμό σας στο πάνω μέρος των φωτοαντιγράφων αμέσως μόλις σας παραδοθούν. Καμιά άλλη σημείωση δεν επιτρέπεται να γράψετε. Κατά την αποχώρησή σας να παραδώσετε μαζί με το τετράδιο και τα φωτοαντίγραφα, τα οποία και θα καταστραφούν μετά το πέρας της εξέτασης
3. Να απαντήσετε στο τετράδιό σας σε όλα τα θέματα.
4. Κάθε λύση επιστημονικά τεκμηριωμένη είναι αποδεκτή.
5. Διάρκεια εξέτασης: Τρεις (3) ώρες μετά τη διανομή των φωτοαντιγράφων.
6. Χρόνος δυνατής αποχώρησης : Μία (1) ώρα μετά τη διανομή των φωτοαντιγράφων.

ΚΑΛΗ ΕΠΙΤΥΧΙΑ

ΤΕΛΟΣ ΜΗΝΥΜΑΤΟΣ

**ΕΠΑΝΑΛΗΠΤΙΚΕΣ ΑΠΟΛΥΤΗΡΙΕΣ ΕΞΕΤΑΣΕΙΣ
Γ' ΤΑΞΗΣ ΕΝΙΑΙΟΥ ΛΥΚΕΙΟΥ
ΠΑΡΑΣΚΕΥΗ 5 ΙΟΥΛΙΟΥ 2002
ΕΞΕΤΑΖΟΜΕΝΟ ΜΑΘΗΜΑ ΤΕΧΝΟΛΟΓΙΚΗΣ ΚΑΤΕΥΘΥΝΣΗΣ
(ΚΥΚΛΟΣ ΠΛΗΡΟΦΟΡΙΚΗΣ ΚΑΙ ΥΠΗΡΕΣΙΩΝ):
ΑΝΑΠΤΥΞΗ ΕΦΑΡΜΟΓΩΝ ΣΕ ΠΡΟΓΡΑΜΜΑΤΙΣΤΙΚΟ
ΠΕΡΙΒΑΛΛΟΝ**

ΘΕΜΑ 1ο

Α. Να γράψετε στο τετράδιό σας τον αριθμό κάθε πρότασης και δίπλα τη λέξη **Σωστό**, αν είναι σωστή, ή τη λέξη **Λάθος**, αν είναι λανθασμένη.

1. Η τιμή μιας μεταβλητής δεν μπορεί να αλλάξει κατά τη διάρκεια εκτέλεσης ενός αλγόριθμου.
2. Με τον όρο *δεδομένο* αναφέρεται οποιοδήποτε γνωστικό στοιχείο προέρχεται από επεξεργασία δεδομένων.
3. Σκοπός της συγχώνευσης δύο ταξινομημένων πινάκων είναι η δημιουργία ενός τρίτου ταξινομημένου πίνακα, που περιέχει τα στοιχεία των δύο πινάκων.
4. Τα λογικά λάθη είναι συνήθως λάθη σχεδιασμού και δεν προκαλούν τη διακοπή της εκτέλεσης του προγράμματος.
5. Σε ένα μεγάλο και σύνθετο πρόγραμμα, η άσκοπη χρήση μεγάλων πινάκων μπορεί να οδηγήσει ακόμη και σε αδυναμία εκτέλεσης του προγράμματος.
6. Οι δυναμικές δομές έχουν σταθερό μέγεθος.

Μονάδες 12

Β. Ποιες είναι οι διαφορές μεταξύ μεταγλωττιστή (compiler) και διερμηνευτή (interpreter).

Μονάδες 10

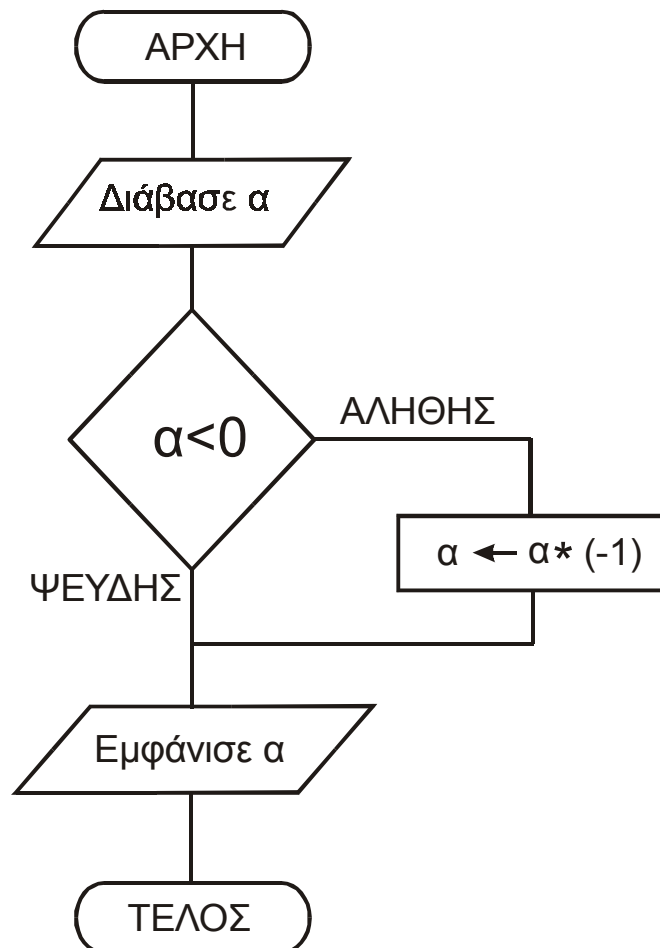
Γ. Η τιμή *A* της βαθμολογίας σε ένα θέμα μπορεί να πάρει τις τιμές από 0 μέχρι και 20. (Το 0 και το 20 είναι επιτρεπτές τιμές).

Ποια από τις παρακάτω λογικές εκφράσεις ελέγχει αυτή τη συνθήκη;

- i) $A \geq 0$ ή $A \leq 20$
- ii) $A > 0$ και $A \leq 20$
- iii) $A \geq 20$ και $A \leq 0$
- iv) $A \geq 0$ και $A \leq 20$

Μονάδες 5

Δ. Ποιο είναι το αποτέλεσμα της εκτέλεσης του παρακάτω αλγορίθμου; Να αιτιολογήσετε την απάντησή σας.



Μονάδες 7

Ε. Να υπολογίσετε την τιμή της αριθμητικής έκφρασης

$$B * (A \text{ DIV } B) + (A \text{ MOD } B)$$
για τις παρακάτω περιπτώσεις:

- i) $A = 10$ και $B = 5$
- ii) $A = -5$ και $B = 1$
- iii) $A = 1$ και $B = 5$

Μονάδες 6

ΘΕΜΑ 2ο

Δίνεται μονοδιάστατος πίνακας A , 10 θέσεων, ο οποίος στις θέσεις 1 έως 10 περιέχει αντίστοιχα τους αριθμούς:

15, 3, 0, 5, 16, 2, 17, 8, 19, 1

και τμήμα αλγορίθμου:

Για i από 1 μέχρι 9 με_βήμα 2

$k \leftarrow ((i+10) \bmod 10) + 1$

$A[i] \leftarrow A[k]$

εκτύπωσε $i, k, A[i], A[k]$

Τέλος_επανάληψης

Ποιές τιμές τυπώνονται με την εντολή

εκτύπωσε $i, k, A[i], A[k]$

καθώς εκτελείται το παραπάνω τμήμα αλγορίθμου;

Μονάδες 20

ΘΕΜΑ 3ο

Σε ένα κέντρο νεοσύλλεκτων υπάρχει η πρόθεση να δημιουργηθούν δύο ειδικές διμοιρίες. Η διμοιρία A θα αποτελείται από νεοσύλλεκτους πτυχιούχους τριτοβάθμιας εκπαίδευσης, ηλικίας από 24 έως και 28 χρόνων. Η διμοιρία B θα αποτελείται από νεοσύλλεκτους απόφοιτους δευτεροβάθμιας εκπαίδευσης, ηλικίας από 18 έως και 24 χρόνων. Οι υπόλοιποι νεοσύλλεκτοι δεν

κατατάσσονται σε καμία από αυτές τις διμοιρίες. Να αναπτύξετε αλγόριθμο ο οποίος:

- α. διαβάξει το ονοματεπώνυμο, την ηλικία και έναν αριθμό που καθορίζει το επίπεδο σπουδών του νεοσύλλεκτου και παίρνει τιμές από 1 έως 3 (1: τριτοβάθμια εκπαίδευση, 2: δευτεροβάθμια εκπαίδευση, 3: κάθε άλλη περίπτωση)

Μονάδες 5

- β. εκτυπώνει:

- i) το ονοματεπώνυμο του νεοσύλλεκτου
ii) το όνομα της διμοιρίας (Α ή Β), εφόσον ο νεοσύλλεκτος κατατάσσεται σε μία από αυτές.

Μονάδες 15

ΘΕΜΑ 4ο

Μια αλυσίδα ξενοδοχείων έχει 5 ξενοδοχεία. Σε ένα μονοδιάστατο πίνακα ΞΕΝΟΔΟΧΕΙΑ[5] καταχωρούνται τα ονόματα των ξενοδοχείων. Σε ένα άλλο δισδιάστατο πίνακα ΕΙΣΠΡΑΞΕΙΣ[5,12] καταχωρούνται οι εισπράξεις κάθε ξενοδοχείου για κάθε μήνα του έτους 2001, έτσι ώστε στην *i* γραμμή καταχωρούνται οι εισπράξεις του *i* ξενοδοχείου.

Να αναπτύξετε αλγόριθμο, ο οποίος:

- α. διαβάξει τα στοιχεία των δύο πινάκων

Μονάδες 6

- β. εκτυπώνει το όνομα κάθε ξενοδοχείου και τις ετήσιες εισπράξεις του για το έτος 2001

Μονάδες 7

- γ. εκτυπώνει το όνομα του ξενοδοχείου με τις μεγαλύτερες εισπράξεις για το έτος 2001.

Μονάδες 7

ΣΗΜΕΙΩΣΗ:

Οι απαντήσεις των θεμάτων μπορούν να διατυπωθούν είτε σε οποιαδήποτε μορφή παράστασης αλγορίθμου, είτε σε «ΓΛΩΣΣΑ», είτε σε Pascal, είτε σε Basic, είτε σε Turbo Pascal, είτε σε Quick Basic.

ΚΑΛΗ ΕΠΙΤΥΧΙΑ