

**ΠΑΝΕΛΛΑΔΙΚΕΣ ΕΞΕΤΑΣΕΙΣ
Γ΄ ΤΑΞΗΣ ΗΜΕΡΗΣΙΟΥ ΓΕΝΙΚΟΥ ΛΥΚΕΙΟΥ
ΚΑΙ ΕΠΑΛ (ΟΜΑΔΑ Β΄)
ΠΑΡΑΣΚΕΥΗ 30 ΜΑΪΟΥ 2014 - ΕΞΕΤΑΖΟΜΕΝΟ ΜΑΘΗΜΑ:
ΒΙΟΛΟΓΙΑ ΓΕΝΙΚΗΣ ΠΑΙΔΕΙΑΣ
ΣΥΝΟΛΟ ΣΕΛΙΔΩΝ: ΤΕΣΣΕΡΙΣ (4)**

ΘΕΜΑ Α

Να γράψετε στο τετράδιό σας τον αριθμό καθεμίας από τις παρακάτω ημιτελείς προτάσεις **A1** έως **A5** και, δίπλα, το γράμμα που αντιστοιχεί στη λέξη ή στη φράση η οποία συμπληρώνει σωστά την ημιτελή πρόταση.

A1. Η αμοιβαδοειδής δυσεντερία οφείλεται σε

- α. βακτήριο
- β. μύκητα
- γ. ιό
- δ. πρωτόζωο.

Μονάδες 5

A2. Ο ιός που προκαλεί το AIDS προσβάλλει τα

- α. ερυθρά αιμοσφαίρια
- β. βοηθητικά Τ-λεμφοκύτταρα
- γ. ουδετερόφιλα
- δ. πλασματοκύτταρα.

Μονάδες 5

A3. Η παθητική ανοσία επιτυγχάνεται με τη χορήγηση

- α. εμβολίου
- β. αντιβιοτικού
- γ. ορού
- δ. ιντερφερονών.

Μονάδες 5

A4. Ένα ερμητικό οικοσύστημα χαρακτηρίζεται από

- α. μεγάλη βιομάζα
- β. άγωνα εδάφη
- γ. πλούσια βλάστηση
- δ. μεγάλη παραγωγικότητα.

Μονάδες 5

- A5.** Η εξέλιξη σύμφωνα με το Δαρβίνο στηρίζεται
- α. στη φυσική επιλογή
 - β. στην τεχνητή επιλογή
 - γ. στην αρχή της χρήσης και της αχρησίας
 - δ. στην έμφυτη τάση των όντων για συνεχή πρόοδο.

Μονάδες 5

ΘΕΜΑ Β

- B1.** Σε ποιους παράγοντες μπορεί να οφείλονται οι διαταραχές της ομοιόστασης που προκαλούν την εκδήλωση ασθενειών;
- B2.** Η τήρηση των κανόνων της δημόσιας υγιεινής περιλαμβάνει, μεταξύ των άλλων, και την παστερίωση του γάλακτος. Να αναφέρετε τις συνθήκες και τα αποτελέσματα της παστερίωσης.
- B3.** Με ποιους τρόπους γίνεται η διάγνωση της ασθένειας του AIDS;
- B4.** Να αναφέρετε γιατί η δράση της φυσικής επιλογής είναι τοπικά και χρονικά προσδιορισμένη.

Μονάδες 6

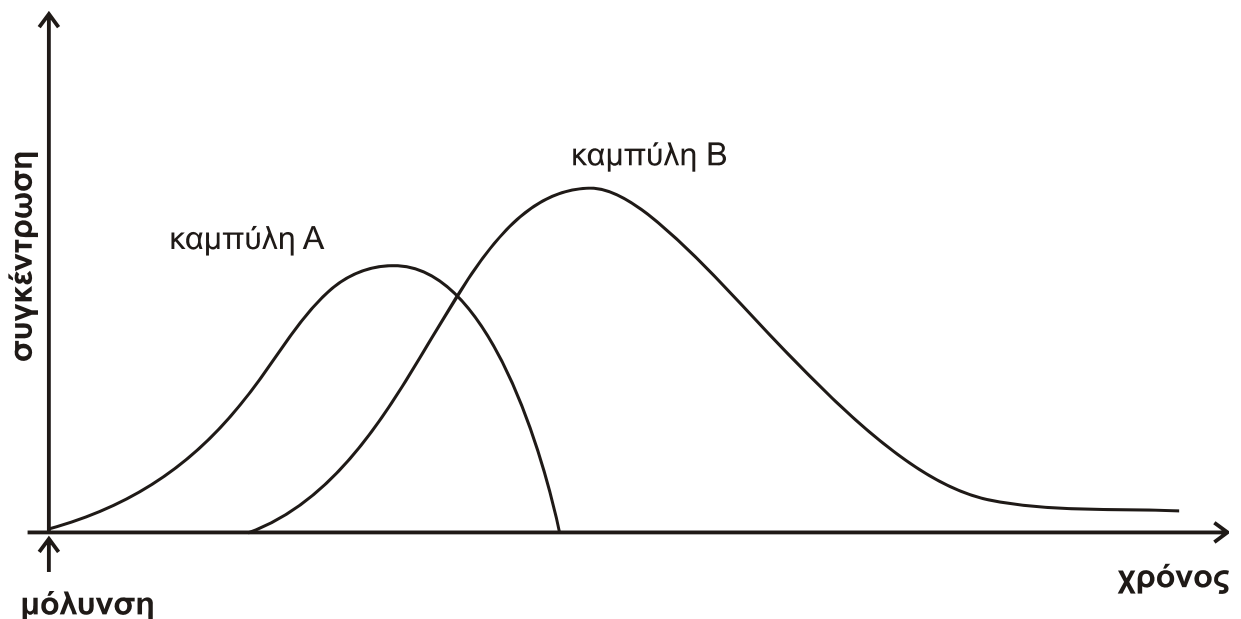
Μονάδες 6

Μονάδες 6

Μονάδες 7

ΘΕΜΑ Γ

Ένας άνθρωπος μολύνεται από ιό. Το παρακάτω διάγραμμα απεικονίζει τις συγκεντρώσεις των αντιγόνων και των αντισωμάτων σε συνάρτηση με το χρόνο.



ΑΡΧΗ 3ΗΣ ΣΕΛΙΔΑΣ – Γ΄ ΗΜΕΡΗΣΙΩΝ

- Γ1.** Ποια καμπύλη αντιστοιχεί στα αντιγόνα και ποια καμπύλη στα αντισώματα;
Μονάδες 2
- Γ2.** Να προσδιορίσετε το είδος της ανοσοβιολογικής απόκρισης (μονάδες 2).
Να περιγράψετε και να ερμηνεύσετε την μεταβολή των καμπυλών
(μονάδες 6).
Μονάδες 8
- Γ3.** Να αναφέρετε τις κατηγορίες των Τ-λεμφοκυττάρων που ενεργοποιούνται
και που παράγονται κατά την παραπάνω ανοσοβιολογική απόκριση.
Μονάδες 5
- Γ4.** Στην περίπτωση των ιών δρα ένας επιπλέον μηχανισμός μη ειδικής
άμυνας. Να ονομάσετε τον μηχανισμό αυτό και να περιγράψετε τον τρόπο
δράσης του.
Μονάδες 10

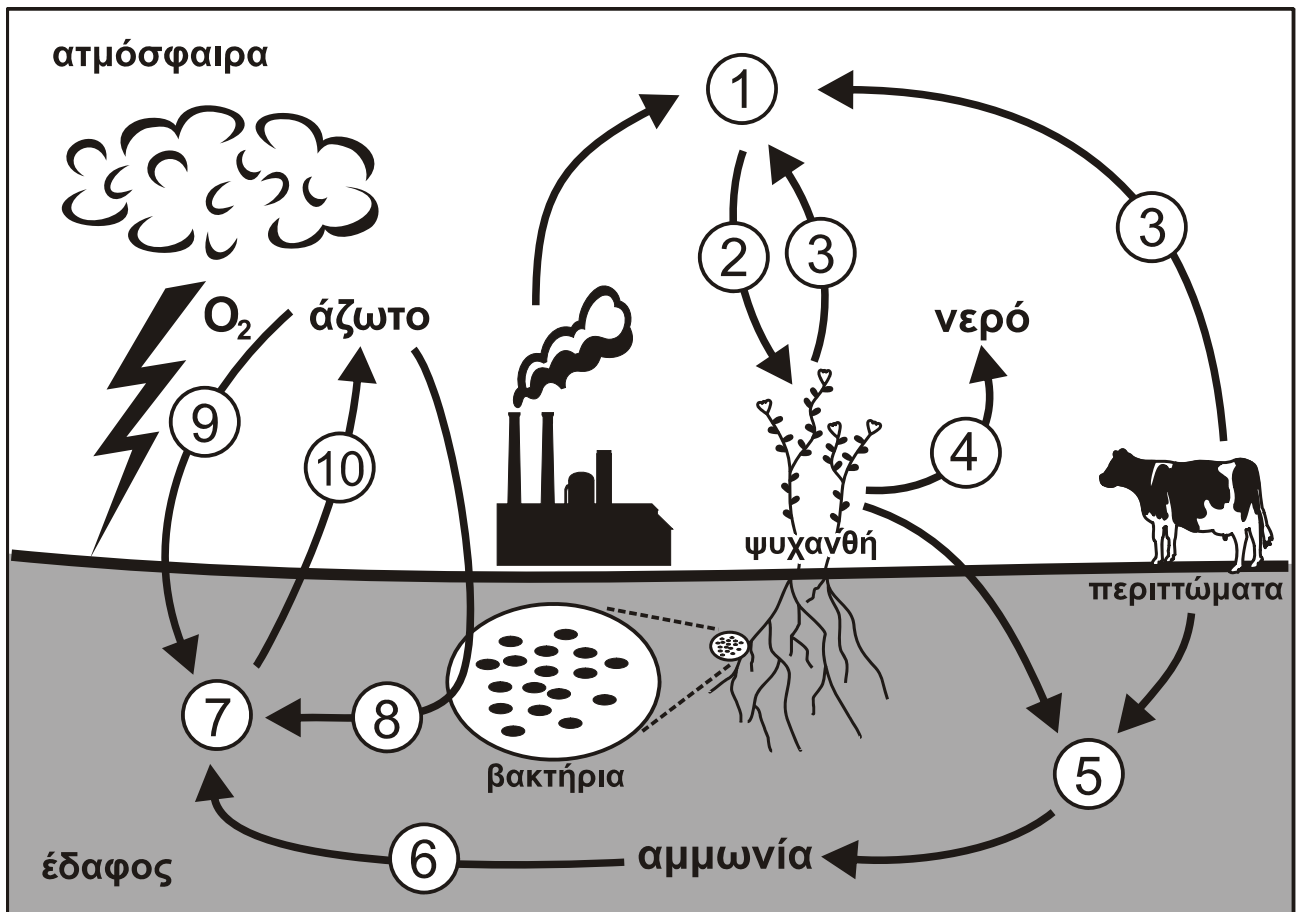
ΘΕΜΑ Δ

Ένα χερσαίο οικοσύστημα περιλαμβάνει την παρακάτω τροφική αλυσίδα:

Ποώδη φυτά → ακρίδες → βάτραχοι → φίδια → γεράκια

Όλοι οι οργανισμοί κάθε τροφικού επιπέδου τρέφονται αποκλειστικά με οργανισμούς του προηγούμενου τροφικού επιπέδου. Η συνολική ενέργεια που εμπεριέχεται στις ακρίδες είναι 10^5 KJ.

- Δ1.** Ποια είναι η ενέργεια των υπόλοιπων τροφικών επιπέδων; (μονάδα 1). Να σχεδιάσετε την αντίστοιχη πυραμίδα ενέργειας (μονάδες 2). Να εξηγήσετε πού οφείλεται η μεταβολή της ενέργειας από το ένα τροφικό επίπεδο στο αμέσως επόμενο (μονάδες 4).
Μονάδες 7
- Δ2.** Μια ασθένεια οδηγεί σε σημαντική μείωση του αριθμού των βατράχων. Να εξηγήσετε ποια θα είναι η συνέπεια στον πληθυσμό των ακρίδων και ποια στον πληθυσμό των ποώδων φυτών;
Μονάδες 4
- Δ3.** Στο συγκεκριμένο οικοσύστημα ανιχνεύθηκε 1 mg μη βιοδιασπώμενου παρασιτοκτόνου στα ποώδη φυτά. Ποια ποσότητα της ουσίας αυτής αναμένεται να ανιχνευθεί στα γεράκια; Να αιτιολογήσετε την απάντησή σας.
Μονάδες 4
- Δ4.** Με βάση το σχήμα **στην επόμενη σελίδα** να γράψετε:
i. τις χημικές ουσίες που υποδηλώνουν οι αριθμοί 1 και 7
ii. τις διαδικασίες που υποδηλώνουν οι αριθμοί 2, 3, 4, 8, 9, 10 και
iii. τους μικροοργανισμούς που αντιστοιχούν στους αριθμούς 5 και 6.



Μονάδες 10

ΟΔΗΓΙΕΣ (για τους εξεταζομένους)

1. Στο εξώφυλλο του τετραδίου να γράψετε το εξεταζόμενο μάθημα. Στο εσώφυλλο πάνω-πάνω να συμπληρώσετε τα Ατομικά στοιχεία μαθητή. Στην αρχή των απαντήσεών σας να γράψετε πάνω-πάνω την ημερομηνία και το εξεταζόμενο μάθημα. **Να μην αντιγράψετε** τα θέματα στο τετράδιο και **να μη γράψετε** πουθενά στις απαντήσεις σας το όνομά σας.
2. Να γράψετε το ονοματεπώνυμό σας στο πάνω μέρος των φωτοαντιγράφων αμέσως μόλις σας παραδοθούν. **Τυχόν σημειώσεις σας πάνω στα θέματα δεν θα βαθμολογηθούν σε καμία περίπτωση.** Κατά την αποχώρησή σας να παραδώσετε μαζί με το τετράδιο και τα φωτοαντίγραφα.
3. Να απαντήσετε **στο τετράδιό σας** σε όλα τα θέματα **μόνο** με μπλε ή **μόνο** με μαύρο στυλό με μελάνι που δεν σβήνει. Μολύβι επιτρέπεται, **μόνο** αν το ζητάει η εκφώνηση, και **μόνο** για πίνακες, διαγράμματα κλπ.
4. Κάθε απάντηση επιστημονικά τεκμηριωμένη είναι αποδεκτή.
5. Διάρκεια εξέτασης: τρεις (3) ώρες μετά τη διανομή των φωτοαντιγράφων.
6. Χρόνος δυνατής αποχώρησης: 10.30 π.μ.

ΣΑΣ ΕΥΧΟΜΑΣΤΕ ΚΑΛΗ ΕΠΙΤΥΧΙΑ

ΤΕΛΟΣ ΜΗΝΥΜΑΤΟΣ

ΤΕΛΟΣ 4ΗΣ ΑΠΟ 4 ΣΕΛΙΔΕΣ

**ΠΑΝΕΛΛΑΔΙΚΕΣ ΕΞΕΤΑΣΕΙΣ
Δ' ΤΑΞΗΣ ΕΣΠΕΡΙΝΟΥ ΓΕΝΙΚΟΥ ΛΥΚΕΙΟΥ
ΚΑΙ ΕΠΑΛ (ΟΜΑΔΑ Β')**
ΠΑΡΑΣΚΕΥΗ 30 ΜΑΪΟΥ 2014 - ΕΞΕΤΑΖΟΜΕΝΟ ΜΑΘΗΜΑ:
ΒΙΟΛΟΓΙΑ ΓΕΝΙΚΗΣ ΠΑΙΔΕΙΑΣ
ΣΥΝΟΛΟ ΣΕΛΙΔΩΝ: ΤΕΣΣΕΡΙΣ (4)

ΘΕΜΑ Α

*Να γράψετε στο τετράδιό σας τον αριθμό καθεμίας από τις παρακάτω ημιτελείς προτάσεις **A1** έως **A5** και, δίπλα, το γράμμα που αντιστοιχεί στη λέξη ή στη φράση η οποία συμπληρώνει σωστά την ημιτελή πρόταση.*

A1. Η αμοιβαδοειδής δυσεντερία οφείλεται σε

- α. βακτήριο
- β. μύκητα
- γ. ιό
- δ. πρωτόζωο.

Μονάδες 5

A2. Ο ιός που προκαλεί το AIDS προσβάλλει τα

- α. ερυθρά αιμοσφαίρια
- β. βοηθητικά Τ-λεμφοκύτταρα
- γ. ουδετερόφιλα
- δ. πλασματοκύτταρα.

Μονάδες 5

A3. Η παθητική ανοσία επιτυγχάνεται με τη χορήγηση

- α. εμβολίου
- β. προπερδίνης
- γ. ορού
- δ. ιντερφερονών.

Μονάδες 5

A4. Αβιοτικός παράγοντας του οικοσυστήματος είναι

- α. το φυτοπλαγκτόν
- β. η ηλιοφάνεια
- γ. το ζωοπλαγκτόν
- δ. οι αποικοδομητές.

Μονάδες 5

- A5.** Η εξέλιξη σύμφωνα με το Δαρβίνο στηρίζεται
- α. στη φυσική επιλογή
 - β. στην τεχνητή επιλογή
 - γ. στην αρχή της χρήσης και της αχρησίας
 - δ. στην έμφυτη τάση των όντων για συνεχή πρόοδο.

Μονάδες 5

ΘΕΜΑ Β

- B1.** Σε ποιους παράγοντες μπορεί να οφείλονται οι διαταραχές της ομοιόστασης που προκαλούν την εκδήλωση ασθενειών;
- B2.** Με ποιους τρόπους γίνεται η διάγνωση της ασθένειας του AIDS;
- B3.** Το οικοσύστημα είναι θεμελιώδης έννοια για την Οικολογία. Να ορίσετε το οικοσύστημα και τι περιλαμβάνει αυτό.
- B4.** Να αναφέρετε γιατί η δράση της φυσικής επιλογής είναι τοπικά και χρονικά προσδιορισμένη.

Μονάδες 6

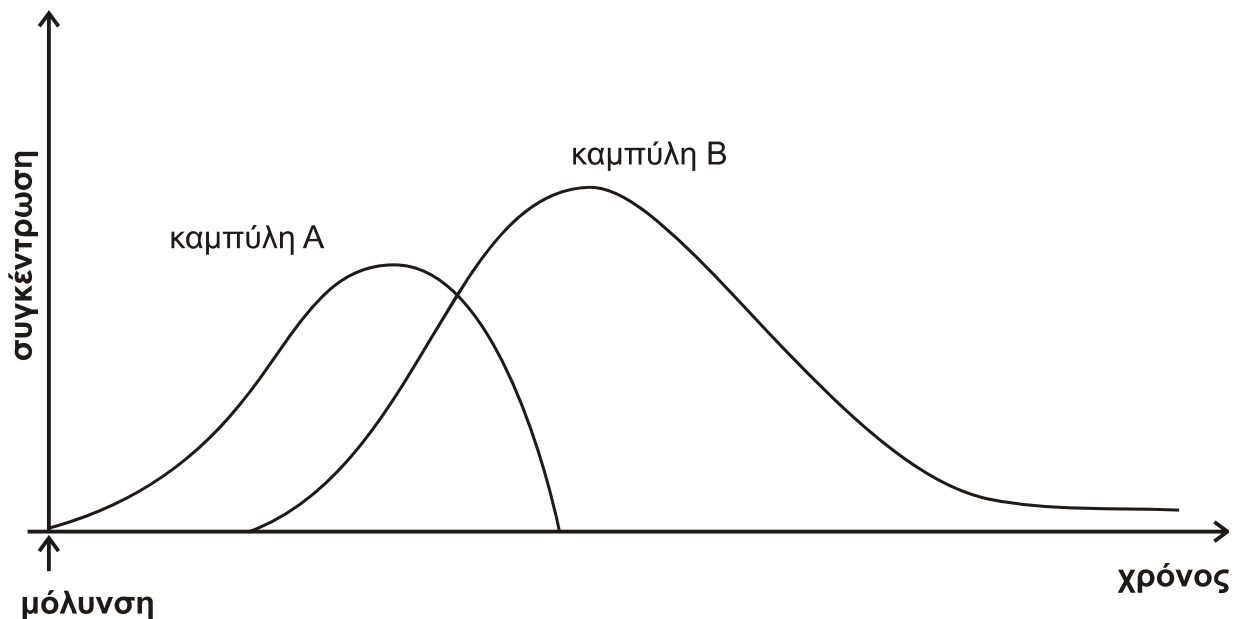
Μονάδες 6

Μονάδες 6

Μονάδες 7

ΘΕΜΑ Γ

Ένας άνθρωπος μολύνεται από ιό. Το παρακάτω διάγραμμα απεικονίζει τις συγκεντρώσεις των αντιγόνων και των αντισωμάτων σε συνάρτηση με το χρόνο.



ΑΡΧΗ 3ΗΣ ΣΕΛΙΔΑΣ – Δ'ΕΣΠΕΡΙΝΩΝ

- Γ1.** Ποια καμπύλη αντιστοιχεί στα αντιγόνα και ποια καμπύλη στα αντισώματα;
Μονάδες 2
- Γ2.** Να προσδιορίσετε το είδος της ανοσοβιολογικής απόκρισης (μονάδες 2).
Να περιγράψετε και να ερμηνεύσετε την μεταβολή των καμπυλών
(μονάδες 6).
Μονάδες 8
- Γ3.** Να αναφέρετε τις κατηγορίες των Τ-λεμφοκυττάρων που ενεργοποιούνται
και που παράγονται κατά την παραπάνω ανοσοβιολογική απόκριση.
Μονάδες 5
- Γ4.** Στην περίπτωση των ιών δρα ένας επιπλέον μηχανισμός μη ειδικής
άμυνας. Να ονομάσετε τον μηχανισμό αυτό και να περιγράψετε τον τρόπο
δράσης του.
Μονάδες 10

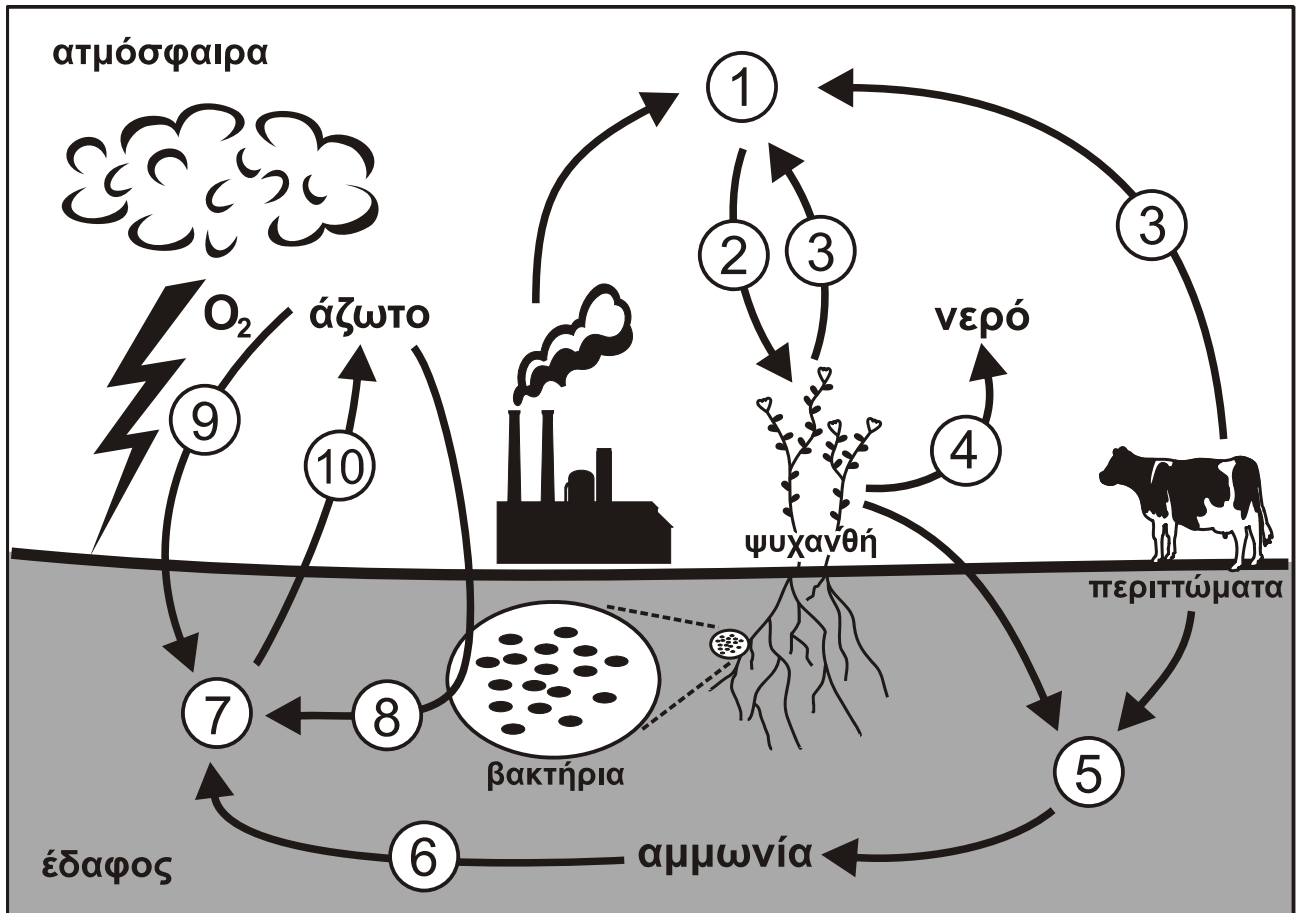
ΘΕΜΑ Δ

Ένα χερσαίο οικοσύστημα περιλαμβάνει την παρακάτω τροφική αλυσίδα:

Ποώδη φυτά → ακρίδες → βάτραχοι → φίδια → γεράκια

Όλοι οι οργανισμοί κάθε τροφικού επιπέδου τρέφονται αποκλειστικά με οργανισμούς του προηγούμενου τροφικού επιπέδου. Η συνολική ενέργεια που εμπεριέχεται στις ακρίδες είναι 10^5 KJ.

- Δ1.** Ποια είναι η ενέργεια των υπόλοιπων τροφικών επιπέδων; (μονάδες 2). Να σχεδιάσετε την αντίστοιχη πυραμίδα ενέργειας (μονάδες 3). Να εξηγήσετε πού οφείλεται η μεταβολή της ενέργειας από το ένα τροφικό επίπεδο στο αμέσως επόμενο (μονάδες 4).
Μονάδες 9
- Δ2.** Μια ασθένεια οδηγεί σε σημαντική μείωση του αριθμού των βατράχων. Να εξηγήσετε ποια θα είναι η συνέπεια στον πληθυσμό των ακρίδων και ποια στον πληθυσμό των ποώδων φυτών;
Μονάδες 6
- Δ3.** Με βάση το σχήμα **στην επόμενη σελίδα** να γράψετε:
i. τις χημικές ουσίες που υποδηλώνουν οι αριθμοί 1 και 7
ii. τις διαδικασίες που υποδηλώνουν οι αριθμοί 2, 3, 4, 8, 9, 10 και
iii. τους μικροοργανισμούς που αντιστοιχούν στους αριθμούς 5 και 6.



Μονάδες 10

ΟΔΗΓΙΕΣ (για τους εξεταζομένους)

1. Στο εξώφυλλο του τετραδίου να γράψετε το εξεταζόμενο μάθημα. Στο εσώφυλλο πάνω-πάνω να συμπληρώσετε τα Ατομικά στοιχεία μαθητή. Στην αρχή των απαντήσεών σας να γράψετε πάνω-πάνω την ημερομηνία και το εξεταζόμενο μάθημα. **Να μην αντιγράψετε** τα θέματα στο τετράδιο και **να μη γράψετε** πουθενά στις απαντήσεις σας το όνομά σας.
2. Να γράψετε το ονοματεπώνυμό σας στο πάνω μέρος των φωτοαντιγράφων αμέσως μόλις σας παραδοθούν. **Τυχόν σημειώσεις σας πάνω στα θέματα δεν θα βαθμολογηθούν σε καμία περίπτωση.** Κατά την αποχώρησή σας να παραδώσετε μαζί με το τετράδιο και τα φωτοαντίγραφα.
3. Να απαντήσετε **στο τετράδιό σας** σε όλα τα θέματα **μόνο** με μπλε ή **μόνο** με μαύρο στυλό με μελάνι που δεν σβήνει. Μολύβι επιτρέπεται, **μόνο** αν το ζητάει η εκφώνηση, και **μόνο** για πίνακες, διαγράμματα κλπ.
4. Κάθε απάντηση επιστημονικά τεκμηριωμένη είναι αποδεκτή.
5. Διάρκεια εξέτασης: τρεις (3) ώρες μετά τη διανομή των φωτοαντιγράφων.
6. Χρόνος δυνατής αποχώρησης: 10.30 π.μ.

ΣΑΣ ΕΥΧΟΜΑΣΤΕ ΚΑΛΗ ΕΠΙΤΥΧΙΑ

ΤΕΛΟΣ ΜΗΝΥΜΑΤΟΣ

ΤΕΛΟΣ 4ΗΣ ΑΠΟ 4 ΣΕΛΙΔΕΣ

**ΕΠΑΝΑΛΗΠΤΙΚΕΣ ΠΑΝΕΛΛΑΔΙΚΕΣ ΕΞΕΤΑΣΕΙΣ
Γ΄ ΤΑΞΗΣ ΗΜΕΡΗΣΙΟΥ ΓΕΝΙΚΟΥ ΛΥΚΕΙΟΥ
ΠΑΡΑΣΚΕΥΗ 20 ΙΟΥΝΙΟΥ 2014
ΕΞΕΤΑΖΟΜΕΝΟ ΜΑΘΗΜΑ: ΒΙΟΛΟΓΙΑ ΓΕΝΙΚΗΣ ΠΑΙΔΕΙΑΣ
ΣΥΝΟΛΟ ΣΕΛΙΔΩΝ: ΠΕΝΤΕ (5)**

ΘΕΜΑ Α

*Να γράψετε στο τετράδιό σας τον αριθμό καθεμιάς από τις παρακάτω ημιτελείς προτάσεις **A1** έως **A5** και, δίπλα, το γράμμα που αντιστοιχεί στη λέξη ή στη φράση, η οποία συμπληρώνει σωστά την ημιτελή πρόταση.*

A1. Η ηπατίτιδα C οφείλεται σε

- α. μύκητα
- β. βακτήριο
- γ. πρωτόζωο
- δ. ιό.

Μονάδες 5

A2. Στους ετερότροφους οργανισμούς ανήκουν

- α. τα κυανοβακτήρια
- β. οι μύκητες
- γ. τα φύκη
- δ. οι πολυκύτταροι φυτικοί οργανισμοί.

Μονάδες 5

A3. Η λυσοζύμη περιέχεται σε

- α. ιδρώτα, δάκρυα και λέμφο
- β. σάλιο, ιδρώτα και αίμα
- γ. σάλιο, δάκρυα και ιδρώτα
- δ. ιδρώτα, αίμα και λέμφο.

Μονάδες 5

A4. Το διοξείδιο του θείου ευθύνεται για

- α. την εξασθένηση της στοιβάδας του όζοντος
- β. το φαινόμενο του θερμοκηπίου
- γ. τον ευτροφισμό
- δ. την όξινη βροχή.

Μονάδες 5

- A5.** Οι οργανισμοί ταξινομούνται σε βαθμίδες σύμφωνα με τη σειρά
- α. είδος – γένος – τάξη – οικογένεια
 - β. γένος – είδος – οικογένεια – κλάση
 - γ. είδος – γένος– οικογένεια – τάξη
 - δ. τάξη – οικογένεια – είδος – γένος.

Μονάδες 5

ΘΕΜΑ Β

- B1.** Τι ονομάζεται φυσική επιλογή και τι ονομάζεται τεχνητή επιλογή;

Μονάδες 6

- B2.** Ποιες είναι οι πιθανές πορείες των νιτρικών ιόντων σε ένα λιβάδι;

Μονάδες 6

- B3.** Ποιες είναι οι επιπτώσεις της υπεριώδους ακτινοβολίας στον άνθρωπο; (μονάδες 3) Ποιες ενέργειες του ανθρώπου και με ποιον τρόπο έχουν οδηγήσει στην αύξηση της ποσότητας της υπεριώδους ακτινοβολίας που φθάνει στην επιφάνεια της Γης; (μονάδες 2) Να κατονομάσετε το περιβαλλοντικό πρόβλημα που σχετίζεται με την αύξηση της υπεριώδους ακτινοβολίας. (μονάδες 2)

Μονάδες 7

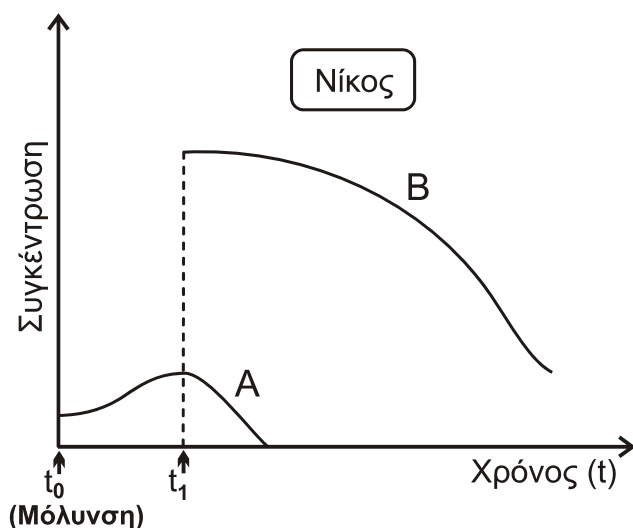
- B4.** Τα παρακάτω βήματα περιγράφουν τον κύκλο ζωής του ιού HIV από τη στιγμή που μολύνει έναν ανθρώπινο οργανισμό έως και τη λανθάνουσα περίοδο. Να τοποθετήσετε τα βήματα στη σωστή σειρά, γράφοντας μόνο τον αντίστοιχο αριθμό.

1.	Σύνθεση μονόκλωνου DNA από το RNA του ιού με την αντίστροφη μεταγραφάση.
2.	Είσοδος του ιού στον ανθρώπινο οργανισμό.
3.	Σύνθεση δίκλωνου DNA.
4.	Σύνδεση του ιού με ειδικούς υποδοχείς της πλασματικής μεμβράνης των βοηθητικών T-λεμφοκυττάρων.
5.	Το δίκλωνο DNA του ιού ενσωματώνεται στο γενετικό υλικό του κυττάρου ξενιστή.
6.	Είσοδος του γενετικού υλικού του ιού στα βοηθητικά T-λεμφοκύτταρα.

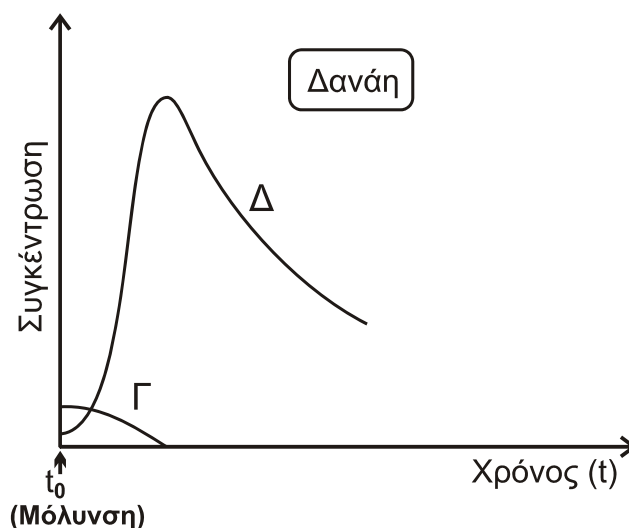
Μονάδες 6

ΘΕΜΑ Γ

Ο Νίκος και η Δανάη, μαθητές της Γ΄ Λυκείου, μολύνονται από τον ίδιο παθογόνο μικροοργανισμό. Η **Εικόνα 1** παρουσιάζει τις μεταβολές στις συγκεντρώσεις των αντιγόνων και των αντισωμάτων στον Νίκο και η **Εικόνα 2** τις αντίστοιχες μεταβολές στη Δανάη.



Εικόνα 1



Εικόνα 2

- Γ1.** Να προσδιορίσετε ποια από τις καμπύλες A και B στην **Εικόνα 1** αντιστοιχεί στα αντιγόνα και ποια στα αντισώματα. (μονάδες 2) Να προσδιορίσετε ποια από τις καμπύλες Γ και Δ στην **Εικόνα 2** αντιστοιχεί στα αντιγόνα και ποια στα αντισώματα. (μονάδες 2)

Μονάδες 4

- Γ2.** Ποιος είναι ο τύπος της ανοσίας (ενεργητική ή παθητική), που παρουσιάζει ο Νίκος (**Εικόνα 1**) και ποιος είναι ο τύπος της ανοσίας που παρουσιάζει η Δανάη; (**Εικόνα 2**) Να αιτιολογήσετε την απάντησή σας.

Μονάδες 6

- Γ3.** Να εξηγήσετε τους πιθανούς τρόπους με τους οποίους έχει επιτευχθεί ο τύπος ανοσίας της Δανάης, όπως τον προσδιορίσατε στο ερώτημα Γ2.

Μονάδες 6

- Γ4.** Ποιος τύπος ανοσοβιολογικής απόκρισης ενεργοποιείται στη Δανάη; (μονάδες 1) Να αιτιολογήσετε την απάντησή σας, σύμφωνα με την **Εικόνα 2**. (μονάδες 4)

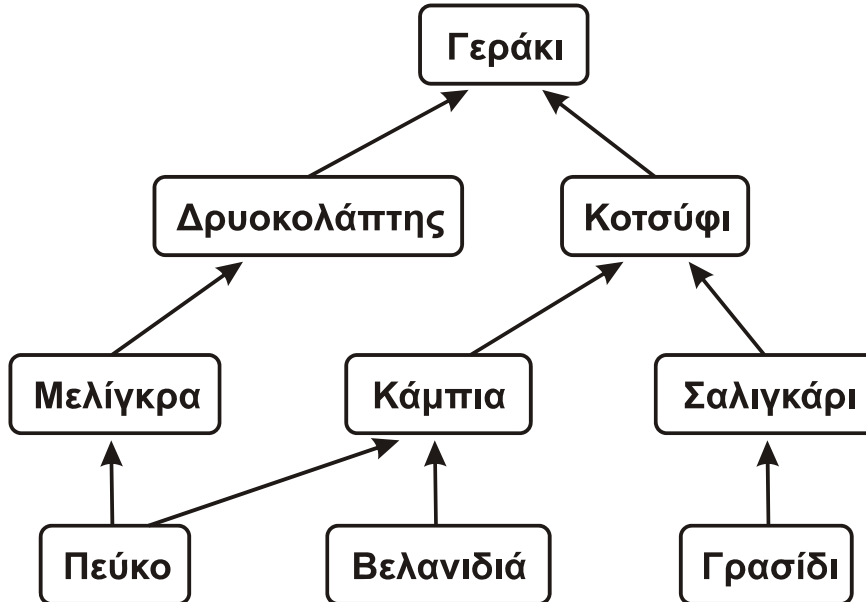
Μονάδες 5

- Γ5.** Στην περίπτωση που η Δανάη μολυνθεί από ιό, να ονομάσετε τα κύτταρα που ενεργοποιούνται κατά την ανοσοβιολογική της απόκριση.

Μονάδες 4

ΘΕΜΑ Δ

Στην **Εικόνα 3** παρουσιάζεται το τροφικό πλέγμα ενός αυτότροφου οικοσυστήματος.



Εικόνα 3

- Δ1.** Να γράψετε τις διαφορετικές τροφικές αλυσίδες που υπάρχουν στην **Εικόνα 3**.

Μονάδες 4

- Δ2.** Σε ποιο τροφικό επίπεδο ανήκουν οι οργανισμοί: μελίγκρα, κοτσύφι, γεράκι, γρασίδι, κάμπια και βελανιδιά της **Εικόνας 3**;

Μονάδες 3

- Δ3.** Η βιομάζα των κοτσυφιών είναι 120 Kg και η βιομάζα των δρυοκολαπτών είναι 80 Kg (**Εικόνα 3**). Να υπολογίσετε τη βιομάζα κάθε τροφικού επιπέδου (μονάδες 4) και να κατασκευάσετε την τροφική πυραμίδα βιομάζας του τροφικού πλέγματος. (μονάδες 2) Να αιτιολογήσετε την απάντησή σας. (μονάδες 4)

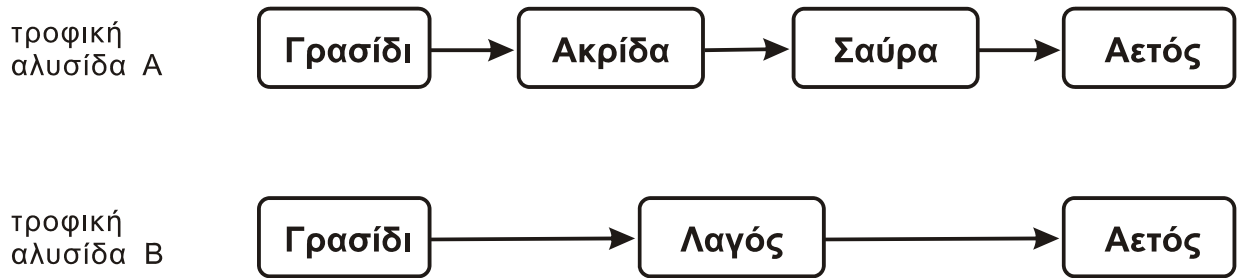
Μονάδες 10

- Δ4.** Εάν η μέση βιομάζα ενός γερακιού είναι 1 Kg, να υπολογίσετε τον αριθμό των γερακιών τα οποία μπορούν να εξασφαλίσουν την τροφή τους στο οικοσύστημα της **Εικόνας 3**.

Μονάδες 3

Ακολουθεί το ερώτημα Δ5 στην επόμενη σελίδα.

- Δ5.** Στην **Εικόνα 4** παρουσιάζονται δύο τροφικές αλυσίδες Α και Β. Δίνεται ότι η ποσότητα της βιομάζας του γρασιδιού και στις δυο τροφικές αλυσίδες είναι ίση. Ποια από τις δύο τροφικές αλυσίδες είναι περισσότερο αποδοτική από ενεργειακή άποψη για τον Αετό; (μονάδα 1) Να αιτιολογήσετε την απάντησή σας. (μονάδες 4)



Εικόνα 4

Μονάδες 5

ΟΔΗΓΙΕΣ (για τους εξεταζομένους)

1. Στο εξώφυλλο του τετραδίου να γράψετε το εξεταζόμενο μάθημα. Στο εσώφυλλο πάνω-πάνω να συμπληρώσετε τα Ατομικά στοιχεία μαθητή. Στην αρχή των απαντήσεών σας να γράψετε πάνω-πάνω την ημερομηνία και το εξεταζόμενο μάθημα. **Να μην αντιγράψετε** τα θέματα στο τετράδιο και **να μη γράψετε** πουθενά στις απαντήσεις σας το όνομά σας.
2. Να γράψετε το ονοματεπώνυμό σας στο πάνω μέρος των φωτοαντιγράφων αμέσως μόλις σας παραδοθούν. **Τυχόν σημειώσεις σας πάνω στα θέματα δεν θα βαθμολογηθούν σε καμία περίπτωση.** Κατά την αποχώρησή σας να παραδώσετε μαζί με το τετράδιο και τα φωτοαντίγραφα.
3. Να απαντήσετε **στο τετράδιό σας** σε όλα τα θέματα **μόνο** με μπλε ή **μόνο** με μαύρο στυλό με μελάνι που δεν σβήνει.
4. Κάθε απάντηση τεκμηριωμένη είναι αποδεκτή.
5. Διάρκεια εξέτασης: τρεις (3) ώρες μετά τη διανομή των φωτοαντιγράφων.
6. Ώρα δυνατής αποχώρησης: 18:00.

ΣΑΣ ΕΥΧΟΜΑΣΤΕ ΚΑΛΗ ΕΠΙΤΥΧΙΑ

ΤΕΛΟΣ ΜΗΝΥΜΑΤΟΣ